




کاربرگ تمرین ساعت

سوم ابتدایی

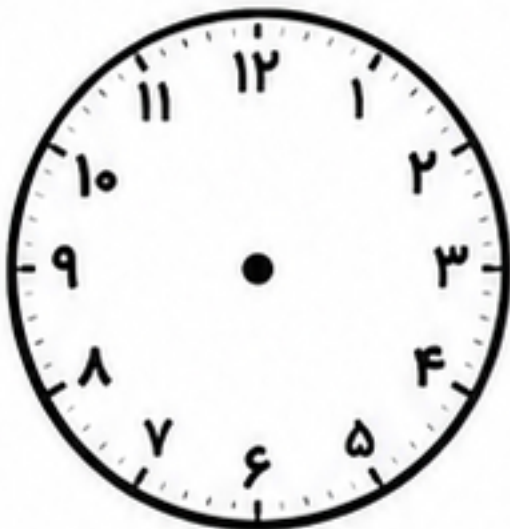
نام و نام خانوادگی:

تاریخ:

۱ ساعت‌ها را بخوان و زمان نوشته شده زیر هر ساعت را بنویس.



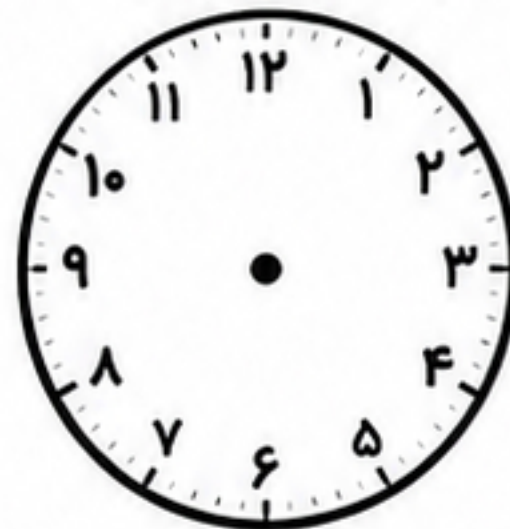
۲ با توجه به زمان داده شده، عقربه‌ها را رسم کن.



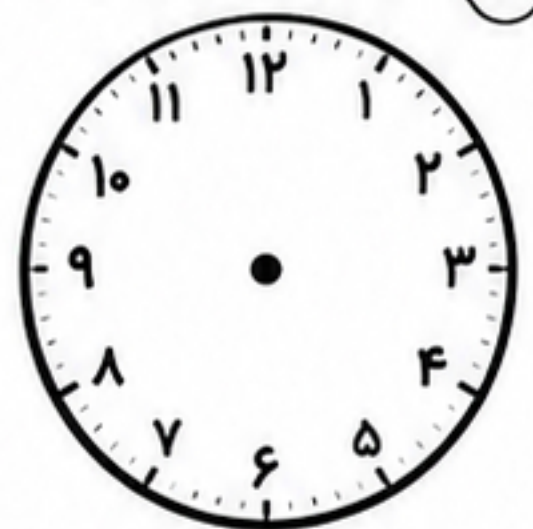
۳:۰۰



۷:۳۰



۱۰:۱۵



۵:۴۵

۳ زمان هر ساعت را به صورت درست وصل کن.

۶:۰۰



۱۱:۳۰



۴:۱۵



۹:۴۵



۴ زمان‌های زیر را به صورت دیجیتالی بنویس.

