


شاگرد خویم!

ساعت های خواسته شده را با کشیدن عقربه ها نشان بده.



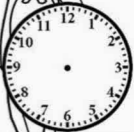
11:10



8:25



1:35




15:30



19:30



14:15



2:40



3:25



6:55



10:05




12:45




4:30

# به نام خدا


هر ساعت چه زمانی را نشان می دهد.




.....:




.....:




.....:



.....:



.....:



.....:



.....:



.....:



.....:

به نام خدا

عزیزدلم! هر ساعت را به زمان مربوط به خودش وصل کن.



۱۴:۲۵



۳:۰۵



۱۵:۴۰



۱۱:۴۵



۱۲:۱۰



۲۰:۳۰