



# کاربرگ ساعت

قبل از ظهر و بعد از ظهر



نام و نام خانوادگی: .....  
تاریخ: .....

۱) زمان هر ساعت را بنویسید و مشخص کنید قبل از است یا بعد از ظهر.



.....

ب.ظ  
 ق.ظ



.....

ب.ظ  
 ق.ظ



.....

ب.ظ  
 ق.ظ



.....

ب.ظ  
 ق.ظ

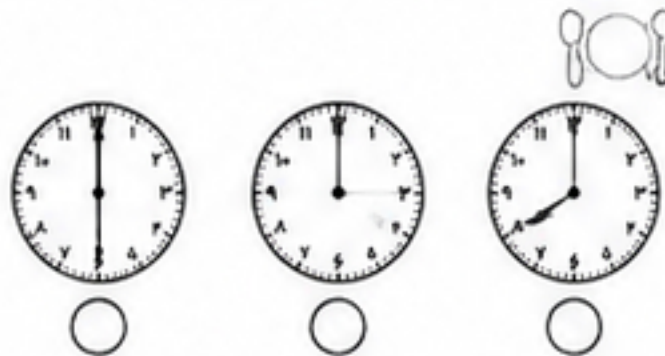
۲) با توجه به جمله‌ها، ساعت مناسب را انتخاب کنید.




۱) علی ساعت ۷:۰۰ قبل از ظهر به مدرسه می‌رود.



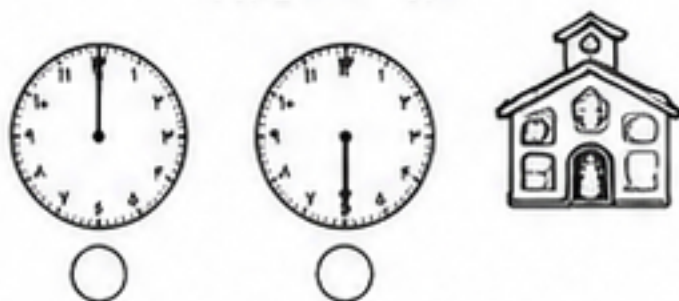
۲) ناهار ما ساعت ۱۲:۳۰ بعد از ظهر است.



۳) برنامه تلویزیونی من ساعت ۵:۱۵ بعد از ظهر شروع می‌شود.



۴) من ساعت ۱۰:۴۵ قبل از ظهر به آموزشگاه می‌روم.



۳) زمان‌های زیر را روی ساعت‌های دیجیتالی، آنالوگ بنویسید و مشخص کنید (ق.ظ) یا (ب.ظ).

زمان	ساعت دیجیتالی	ساعت آنالوگ
۶:۳۰ قبل از ظهر		<input type="text"/>
۲:۴۵ بعد از ظهر		<input type="text"/>
۱۱:۱۵ قبل از ظهر		<input type="text"/>
۷:۰۰ بعد از ظهر		<input type="text"/>



# پاسخنامه

قبل از ظهر و بعد از ظهر



۱) پاسخ



۹:۰۰

ب.ظ  
 ق.ظ



۱:۳۰

ب.ظ  
 ق.ظ



۴:۱۵

ب.ظ  
 ق.ظ



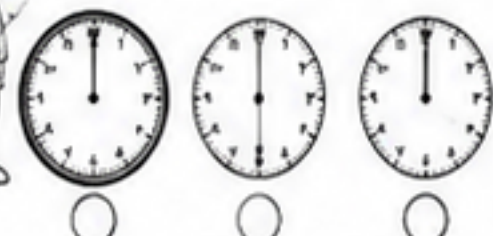
۸:۴۵

ب.ظ  
 ق.ظ

۲) پاسخ



۱) علی ساعت ۷:۰۰ قبل از ظهر به مدرسه می‌رود.



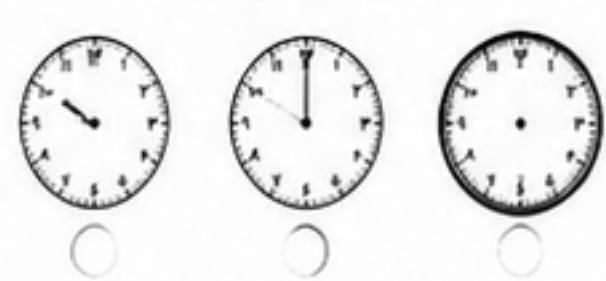
۲) ناهار ما ساعت ۱۲:۳۰ بعد از ظهر است.



۳) برنامه تلویزیونی من ساعت ۵:۱۵ بعد از ظهر شروع می‌شود.



۴) من ساعت ۱۰:۴۵ قبل از ظهر به آموزشگاه می‌روم.



۳) پاسخ

زمان	ساعت دیجیتالی	ساعت آنالوگ	ق.ظ / ب.ظ
۶:۳۰ قبل از ظهر		۶:۳۰	ق.ظ
۲:۴۵ بعد از ظهر		۲:۴۵	ب.ظ
۱۱:۱۵ قبل از ظهر		۱۱:۱۵	ق.ظ
۷:۰۰ بعد از ظهر		۷:۰۰	ب.ظ

