

نام آموزگار :

کلاس :

نام و نام خانوادگی :

لطفا دور پاسخ درست خط بکشید .

۱- تعداد کدام مدادها بیشتر است ؟



د



ج



ب



الف

۲- در کدام شکل توپ در بالای موش قرار دارد ؟



د



ج



ب



الف

۳- طول کدام درخت بیشتر است ؟



د



ج



ب



الف

۴- کدام لاک پشت به سمت چپ راه می رود ؟



د



ج



ب



الف

۵- در کدام سبد ۳ توپ قرار دارد؟



د



ج


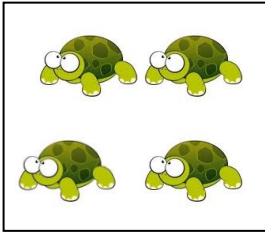


ب

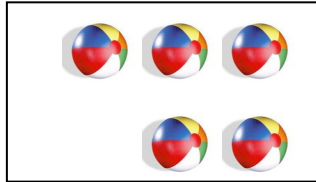


الف

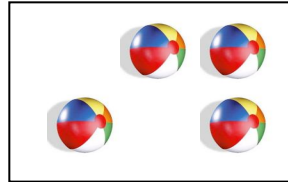
۶- تعداد کدام توپ ها با تعداد لاک پشت های مقابل مساوی یا برابر است؟



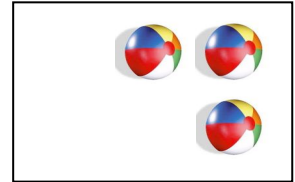
د



ج



ب



الف

۷- تعداد کدام بادکنک ها از بقیه بیشتر است؟



د



ج

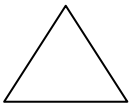


ب



الف

۸- کدام شکل با بقیه خیلی فرق دارد؟



د



ج



ب



الف

۹- اردک از کدام جاده ی زیر برود تا زود تر به خانه برسد؟



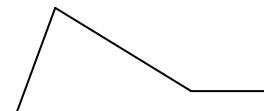
د



ج

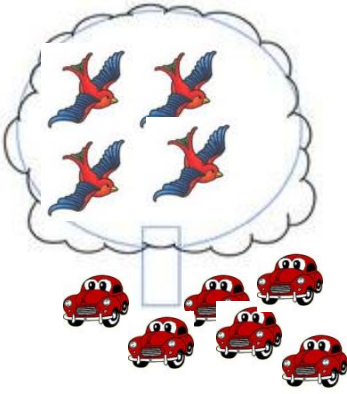


ب



الف

۱۰- تعداد کدام ماشین های زیر از پرندگان مقابل کمتر است؟



د



ج



ب



الف

۱۱- برای شناختن کدام شکل زیر باید از زبانمان کمک بگیریم؟



د



ج



ب



الف

۱۲- استفاده از کدام وسیله ی زیر باعث سلامتی دندانهایمان می شود؟



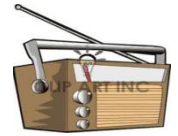
د



ج



ب



الف

۱۳- کدام جانور زیر گوشت می خورد؟



د



ج



ب



الف

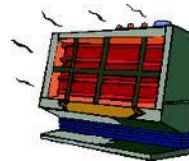
۱۴- کدام شکل زیر باعث گرم شدن کوچه و خیابان ها می شود؟



د



ج



ب



الف

۱۵- حرکت دادن کدام وسیله ی زیر راحت تر است ؟



د



ج



ب



الف

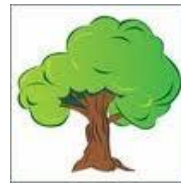
۱۶- کدام یک از شکل های زیر برای بزرگ شدن به آب احتیاج دارد ؟



د



ج



ب



الف

۱۷- کدام یک از حیوانات زیر پرواز می کند ؟



د



ج



ب



الف

۱۸- برای شناختن کدام شکل از گوش هایمان استفاده می کنیم ؟



د



ج



ب



الف

۱۹- کدام جانور برای ما فایده بیشتری دارد ؟



د



ج



ب



الف

۲۰- کدام یک سنگین تر است ؟



د

ج



ب



الف

