



کار برگ ۵

درس: ریاضی

عنوان درس: فصل 8، آمار و نمودار

پایه: دوم

مفهوم: نمودار ستونی، زوج و فرد، (صفحه‌های ۱۳۹ - ۱۴۳)

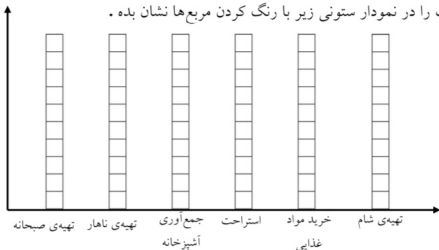
نام دانش آموز:

تاریخ: / /

۱- یک آشپز، برنامه‌ی روزانه‌ی خود را یادداشت کرده است. (تهیه‌ی صبحانه ۲ ساعت، تهیه‌ی ناهار ۴ ساعت، جمع‌آوری آشپزخانه ۱ ساعت، استراحت ۱ ساعت، خرید مواد غذایی ۱ ساعت، تهیه‌ی شام ۳ ساعت، برنامه‌ی آشپز را روی شکل با رنگ کردن نشان بده. برای هر ۱ ساعت، یک خانه را رنگ کن.

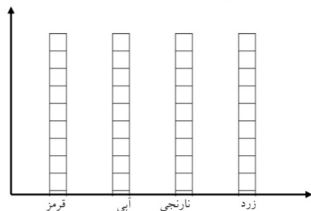


همین اطلاعات را در نمودار ستونی زیر با رنگ کردن مربع‌ها نشان بده.




۲- ۶ کارت رنگی به رنگ‌های زیر بریده، آن‌ها را در کیسه‌ای گذاشته و تا ده بار بدون نگاه کردن به داخل کیسه، یک کارت بیرون بیاور. هر بار به رنگ کارتی که بیرون می‌آوری، یک خانه از شکل زیر و یک خانه در نمودار رنگ کن.

قرمز	آبی	نارنجی
آبی	نارنجی	زرد



چند قسمت از شکلی که کامل کردی آبی است؟

..... قسمت از قسمت



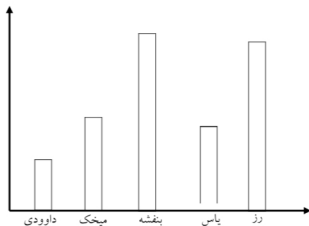
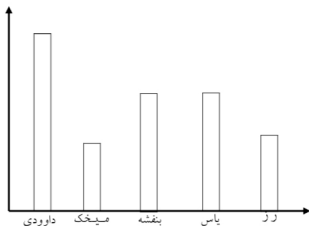
۳- در درخت زیر سیب‌هایی که عددهای زوج بر روی آن‌ها نوشته را رنگ کن.



۴- باغبانی در بوستان لاله و بوستان مریم گل‌هایی کاشته است. نمودار کاشت گل‌های هر بوستان به صورت زیر رسم شده است. با توجه به آن‌ها به پرسش‌ها پاسخ بده.

بوستان لاله

بوستان مریم



* در کدام بوستان گل رز بیش‌تری کاشته است؟

* در کدام بوستان گل داوودی بیش‌تری کاشته است؟

* در کدام بوستان گل میخک کم‌تری کاشته است؟

* در بوستان گل یاس کم‌تری کاشته شده است.

* در بوستان گل بنفشه‌ی کاشته شده است.

* در بوستان لاله، کدام گل‌ها هم اندازه کاشته شده‌اند؟