

به نام خدا

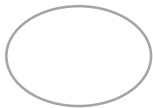
ارزشیابی تم ۲۵ ریاضی پایه اول

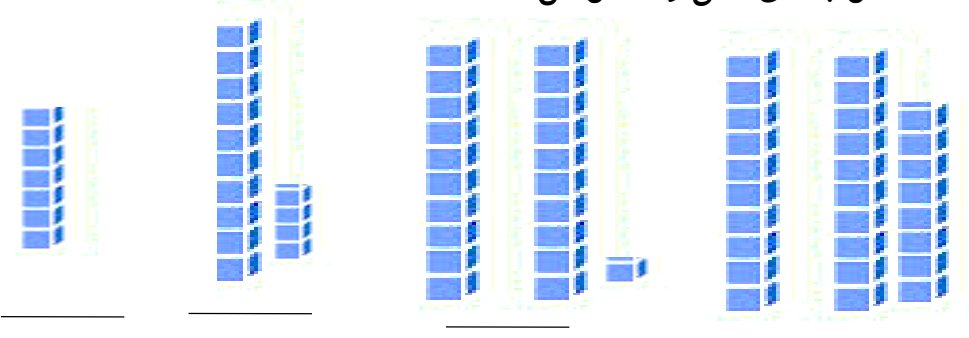

نام :


تاریخ آزمون :

نام خانوادگی :

شماره دانش آموز :



ردیف	ب . ح . ا .	د . ح . ا .	ن . ب . ت . ب .						
۱			<p>علی یک بسته مداد رنگی ۲۴ تایی داشت . مادرش هم برایش یک بسته مداد رنگی ۶ تایی خرید . حالا علی چند مداد رنگی دارد . علی تا مداد رنگی دارد .</p>						
۲			<p>با کمک شکل جاهای خالی را کامل کن .</p> 						
۳			<p>۸ بسته ی ۱۰ تایی داریم . دو بسته ی ۱۰ تایی دیگر اضافه کردیم . حالا چند بسته ی ۱۰ تایی داریم ؟</p> <table border="1"><thead><tr><th>صد تایی</th><th>ده تایی</th><th>یکی</th></tr></thead><tbody><tr><td></td><td></td><td></td></tr></tbody></table> 	صد تایی	ده تایی	یکی			
صد تایی	ده تایی	یکی							
۴			<p>در جاهای خالی با عدد و با حروف بنویس .</p> <table border="1"><tbody><tr><td>عدد</td><td>۹۳</td><td>۴۲</td></tr><tr><td>حروف</td><td>سی و هشت</td><td>شصت و هفت</td></tr></tbody></table>	عدد	۹۳	۴۲	حروف	سی و هشت	شصت و هفت
عدد	۹۳	۴۲							
حروف	سی و هشت	شصت و هفت							

ن ب ت ب	د. ح. ا.	ب. ح. ا.	ردیف						
			<p>جواب جمع های زیر را بنویس و مقایسه کن . دور علامت مناسب خط بکش .</p> <p>$۱۰ + ۱۰ = \dots\dots\dots < = > ۵ + ۵ = \dots\dots\dots$</p> <p>$۱۰ + ۵ = \dots\dots\dots < = > ۱۰ + ۲۰ = \dots\dots\dots$</p>						
			<p>در جاهای خالی عدد مناسب بنویس .</p> <p>$۲۰ - ۷۰ = \dots\dots\dots$ $۱۰ - ۵ = \dots\dots\dots$ $۱۰ - ۱۰ = \dots\dots\dots$</p>						
			<p>در جاهای خالی عدد مناسب بنویس .</p> <table border="1" data-bbox="813 1019 1117 1232"> <tr> <td>ده تایی</td> <td>یکی</td> </tr> <tr> <td>.....</td> <td>.....</td> </tr> <tr> <td>.....</td> <td>.....</td> </tr> </table> <p>عدد حروف</p>	ده تایی	یکی
ده تایی	یکی								
.....								
.....								
			<p>۸ مهدی ۴۰ شکلات خرید ۸ تایی آن را به خواهرش داد. و ۷ تایی آن را به برادرش داد . حالا برای مهدی چند شکلات باقی مانده است</p>						
			<p>خسته نباشی فرزندم</p>						