



کار برگ ۴

درس: ریاضی

عنوان درس: فصل ۳، اشکال هندسی

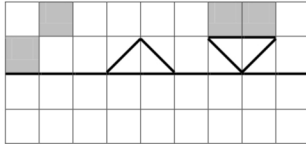
پایه: دوم

مفهوم: خط تقارن، ساعت، الگوی عددی (صفحه ۴۶ و ۴۷)

نام دانش آموز:

تاریخ: / /

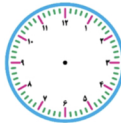
۱- با توجه به خط تقارن نیمه‌ی دیگر شکل را کامل کن.



۲- ساعت چند است؟



۲ ساعت بعد

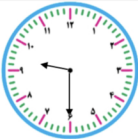


دو ساعت بعد ساعت چند است؟

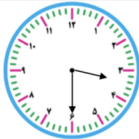
.....

.....

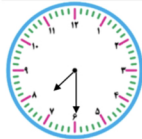
۳- ساعت‌های زیر را به ۲ صورت بنویس.



.....
: .
.....
.....
.....



.....
: .
.....
.....
.....



.....
: .
.....
.....
.....