



## کار برگ ۵

پایه: دوم

عنوان درس: فصل ۷، کسر و احتمال

درس: ریاضی

مفهوم: حل مسئله به صورت تقریبی، کسر، (صفحه ۱۱۶ و ۱۱۷)

تاریخ: / /

نام دانش آموز:

۱- خانم معلم چند مسئله داد. برای این که علی بتواند، راحت تر به جواب برسد، می خواهد مسئله ها را به صورت تقریبی حل کند. تو هم مسئله های زیر را به صورت تقریبی حل کن.

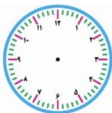
الف) آرمین از باغ پدر بزرگ ۱۸۶ سیب چیده بود. او تعدادی پرتقال هم چید. وقتی پرتقال هایی را که چیده بود شمرد، از سیب ها ۲۴ تا کم تر بود.

\* آرمین چه تعداد پرتقال چیده بود؟

\* او روی هم چه تعداد سیب و پرتقال چیده است؟ (به صورت تقریبی)

ب) آرتا ۱۱۲ صفحه از کتابی را خوانده است. دوستش همان کتاب را ۱۸ صفحه بیش تر از آرتا خواند. دوست آرتا چند صفحه از کتاب را خوانده است؟ (به صورت تقریبی)

۲- آقای محمدی ساعت ۸ از خانه بیرون آمد. او ۱۵ دقیقه بعد به مدرسه رسید. با رنگ کردن بر روی ساعت نشان بده چند قسمت از صفحه ی ساعت طول کشید تا او به مدرسه برسد؟

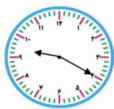


\* عبارت را کامل کن.

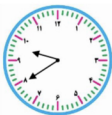
..... قسمت از ..... قسمت مساوی



۳- کارن ساعت ۹:۳۰ شروع به خواندن فارسی کرد. او در چه ساعتی خواندن فارسی را تمام کرد؟ .....



ساعت شروع



ساعت پایان

مقدار چرخش عقربه‌ی بزرگ را رنگ کن.

مقدار رنگ شده چند قسمت از صفحه‌ی ساعت است؟

.....