

نام زیباییت: .....

به نام خالق رنگین کمان

کاربرگ ریاضی فصل ۵ تا ۸

آموزگار: .....

۱) جاهای خالی را کامل کنید .

\* ۵۴۱ یعنی ..... سانتی متر و ..... میلی متر

\* ۷ سانتی متر و ۳ میلی متر یعنی ..... میلی متر


\* اندازه پاک کن ۴۶ میلی متر است یعنی ..... سانتی متر و ..... قسمت از ۱۰ قسمت مساوی

\* عدد ۹ یعنی ..... ده تایی و ..... قسمت از ۱۰ قسمت مساوی



\* اندازه طول فلش ..... و ..... است .

\* نقطه مشخص شده ..... واحد و ..... قسمت از ..... قسمت مساوی را نشان می دهد .



۲) جملات را کامل کنید .



\* ..... قسمت از ..... قسمت مساوی رنگ شده است.



\* ..... قسمت از ..... قسمت مساوی رنگ نشده است .



\* ۲ قسمت از ۵ قسمت مساوی رنگ شده است .

۳) در یک باغ ۶ گاو و مرغ هستند. آن ها روی هم ۲۰ پا دارند . در این باغ چند گاو و مرغ وجود دارد ؟

..... گاو و ..... مرغ وجود دارند .

۴) در یک کیسه ۱۲ مهره قرار دارد. ۹ مهره آبی و ۳ مهره سفید است.

\* ..... مهره از ..... مهره سفید است.

\* ..... مهره از ..... مهره آبی است.

\* اگر یک مهره از کیسه برداریم، احتمال کدام رنگ بیشتر است؟ .....

چرا؟ .....

۵) حاصل جمع و تفریق های زیر را با توجه به روش خواسته شده بدست آورید.

$$\begin{array}{r} 300 \\ - 125 \\ \hline \end{array}$$

تکنیکی  
با شکل

$$\begin{array}{r} 258 \\ + 143 \\ \hline \end{array}$$

تکنیکی  
با شکل

$$7 + 10 + 300 \quad \bigcirc \quad 10 + 200 + 9$$

$$60 \text{ میلی متر} \quad \bigcirc \quad 6 \text{ سانتی متر}$$

$$\begin{array}{r} 796 \\ - 345 \\ \hline \end{array}$$

$$\begin{array}{r} 274 \\ + 513 \\ \hline \end{array}$$

روش  
فرآیندی

۶) قد حمید ۱۲۶ سانتی متر است . قد خواهرش ۱۱ سانتی متر از او بلندتر است . قد خواهرش چند سانتی متر است ؟

۷) عددی را پیدا کنید که اگر با ۳۵ جمع کنیم ، جواب ۶۲ می شود . ( به روش حدس و آزمایش )

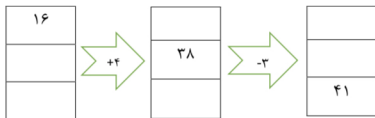
.....

حدس اول : .....

حدس دوم : .....

حدس سوم : .....

۸) جاهای خالی را کامل کن .



۹) تعداد دانش آموزان شرکت کننده در رشته های ورزشی یک باشگاه بصورت زیر است. ابتدا تعداد تقریبی دانش آموزان را بنویسید و نمودار را با نشان دادن هر ۱۰ نفر با شکل  کامل کنید .

رشته	والیبال	فوتبال	شنا	کاراته
تعداد	۳۲	۴۸	۳۶	۲۴
تعداد تقریبی				

والیبال

فوتبال

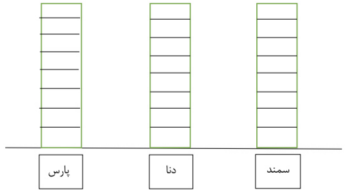
شنا

کاراته

	فرد ««««««««««	زوج »»»»»»»»»»	
--	-------------------	-------------------	--

۱۱) در خیابان شیخ محمدتقی بافقی تعدادی ماشین پارک شده است. ماشین ها به ترتیب | پارس - پارس - دنا - سمند - دنا - پارس - سمند - سمند - دنا - دنا - پارس - سمند - پارس - پارس - دنا | هستند.

ماشین	چوب خط	تعداد
پارس		
دنا		
سمند		
مجموع		



\* جدول و نمودار ستونی را کامل کنید.

\* تعداد کدام ماشین از بقیه بیشتر است؟.....

\* چند ماشین در این خیابان پارک شده است؟.....

\* تعداد ماشین های پارس و سمند روی هم چندتاست؟.....



۱۲) برای هر شکل ۲ جمله بنویسید.

\* ..... تا ..... تایی می شود .....

\* ..... تا ..... تایی می شود .....

بازورد آموزگار: .....

.....