

آزمون مداد کاغذی ریاضی

اعداد زیر را ادامه بده.

۲۵-۲۰-۱۵-۱۰-۵-۰-.....-.....-.....-.....-.....-.....

۱

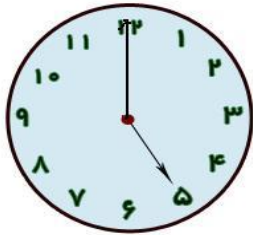
جواب جمع های زیر را با رسم یک شکل ساده نشان بده .

$۲۰ + ۳۰ = \dots\dots\dots$

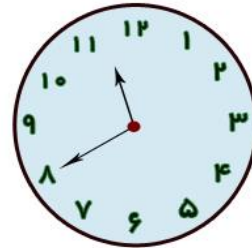
$۴ + ۲ + ۳ = \dots\dots\dots$

۲

کامل کن.



ساعت ..... است.



ساعت بین ..... و ..... است.

۳

جواب جمع و تفریق زیر را روی محور نشان بده .

$۶ + ۳ + ۲ = \dots\dots\dots$

$۵ - ۹ = \dots\dots\dots$

۴

الگوی زیر را ادامه بده .

ده - بیست - سی - چهل - .....-.....-.....-.....-.....

۵

جدول زیر را کامل کن.


چهارده	سی و یک	نود	هشتاد و پنج
.....	.....	.....	.....

۶

شکل زیر را به دسته های ده تایی تقسیم و عدد مناسب آن را در جدول قرار بده .

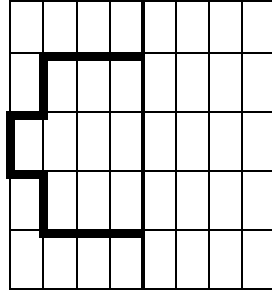
به عدد : .....  
به حروف : .....

ده تایی	یکی
.....	.....



۷

شکل زیر را به صورت قرینه تمام کن.



۸

علامت  $< = >$  را در جای مناسب قرار بده .

$۶ \square ۲+۴$

$۱-۷ \square ۱+۷$

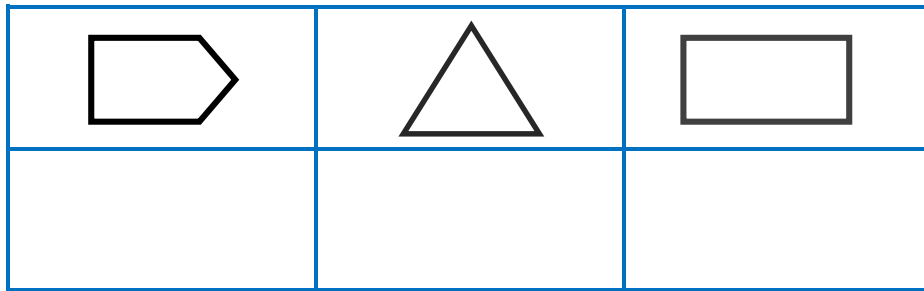
$۹ \square ۱۷$

۹

مساله ی زیر را با رسم یک شکل ساده یا محور حل کن.  
آرمان ۱۲ گردو داشت. سه گردو را به برادرش علی داد. حالا آرمان چند گردو دارد؟.

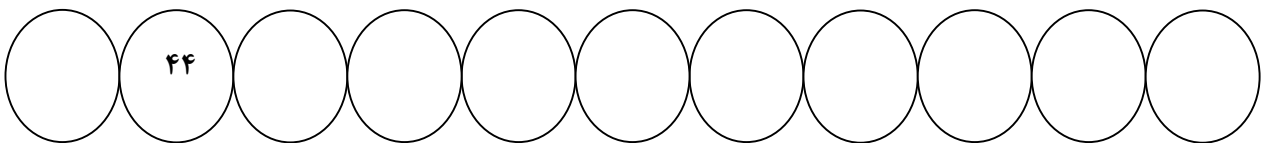
۱۰

در هر شکل تعداد ضلع ها را با چوب خط نشان بده.



۱۱

اعداد زیر را ادامه بده.



۱۲