

تاریخ آزمون:  
مدت آزمون: ۴۵ دقیقه

بسمه تعالی

اداره آموزش و پرورش

نام خانوادگی:

سوالات آزمون ریاضی پایه سوم

۱- جاهای خالی را کامل کنید.

الف- ۴ هزار تایی، ۶ یکی، ۹ ده تایی، و ۰ صدتایی می شود: .....

ب- با ..... می توانیم زاویه ی راست را تشخیص دهیم .

پ- ۴۵۰۰ ریال همان ..... تومان است .

ج- ۶۷۰۰ گرم یعنی ..... کیلو گرم و ..... گرم

د- ۱۲۸ سانتی متر یعنی ..... متر و ..... سانتی متر

۲- الگوهای زیر را ادامه بدهید.

۴، ۸، ۱۲، .....، .....، .....، .....

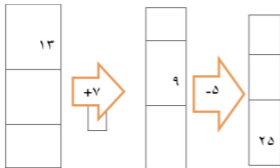
۱۱۰۰، ۲۱۰۰، ۳۱۰۰، .....، .....، .....

.....، .....، .....، ۵۶۰۰، ۵۸۰۰، ۶۰۰۰

۳- جدول زیر را کامل کنید.

زمان	۱۵		بیست و ربع	۲۳:۳۰
بعد از ظهر		۲:۳۰		

۴- در جاهای خالی عدد مناسب بنویسید.



ادامه سوالات در صفحه بعد

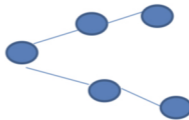
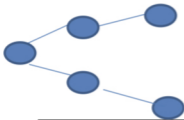
تاریخ آزمون: ۴۰۲/۱۰/۲۰  
مدت آزمون: ۴۵ دقیقه

بسمه تعالی

اداره آموزش و پرورش آذرشهر  
دبستان غیر دولتی فدک نور  
سوالات آزمون ریاضی پایه سوم

نام: \_\_\_\_\_  
نام خانوادگی: \_\_\_\_\_

۵- تمام عددهای ۳ رقمی که رقم صدگان آن ۲ و ۸ و رقم دهگان آن ۸ و ۰ و رقم یکان آن ۴ باشد را بنویسید.



۶- عددها را روی محور نشان دهید.



۲ واحد کامل و  $\frac{3}{4}$



$\frac{1}{4}$  واحد مانده به عدد ۳



عدد ۴۸۰۰ و ۲۲۰۰

۷- امیر  $\frac{4}{8}$  پول خود را و رضا  $\frac{2}{6}$  پول خود را صدقه دادند. با کشیدن شکل نشان دهید کدام یک از آنها پول بیشتری صدقه دادند.


۸- شکل های زیر را دو نوع دسته بندی کنید و برای آنها دو ضرب بنویسید.



..... × .....  
..... × .....


..... × .....

..... × .....