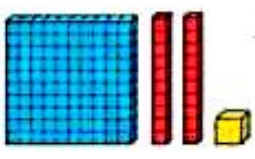


سوالات

۱) شاگرد خوب! به شکل‌ها توجه کن سپس جدول‌های ارزش مکانی را کامل کن، هر جا لازم است شکل بکش.



صدگان	دهگان	یکان
.....
.....


صدگان	دهگان	یکان
۵	۰	۲
.....



صدگان	دهگان	یکان
.....
.....

صدگان	دهگان	یکان
.....
.....

۲) الگوی زیر را ادامه بده.



۱ - ۳ - ۵ -

۳) اگر من ۱۰۰ تا سکه‌ی ۱ ریالی به بانک بدهم، بانک چند سکه‌ی ۱۰ ریالی به من می‌دهد؟



۴) ارزش سکه‌های زیر را بنویس.

عدد: حروف:
عدد: حروف:

۵) باز شده‌ی عددهای زیر را بنویس. (گسترده نویسی)

$768 = \dots = \dots$ $905 = \dots$
 $320 = \dots$

۶) کارت‌های زیر عدد سه رقمی بنویس.



الف) کوچک‌ترین عدد: ب) بزرگ‌ترین عدد:

پ) عددی که رقم دهگان بیشتر از صدگان است.

ت) عددی که جمع یکان و دهگان برابر با صدگان است.



ارزشیابی ریاضی کلاس دوم



۷) تقریب عددهای زیر را با حذف رقم یکان و دهگان بنویس.

۶۵۵ →

۷۶۲ →

$+ ۳۱۲ \rightarrow + \dots\dots\dots$

$- ۲۲۲ \rightarrow - \dots\dots\dots$

۸) سکه‌ی زیر را با چند سکه‌ی ۱۰۰ ریالی و چند سکه‌ی ۱۰ ریالی می‌توان عوض کرد؟



..... سکه‌ی ۱۰۰ ریالی و سکه‌ی ۱۰ ریالی

..... سکه‌ی ۱۰ ریالی

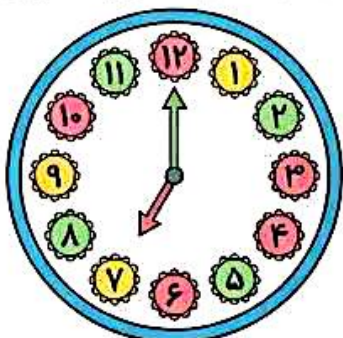


۱۰۹

۹) ترگل در یک مسابقه شرکت کرد و ۱۰۹ امتیاز به دست آورد، در پایان به

یک سوال ۹ امتیازی پاسخ نادرست داد. او حالا چند امتیاز دارد؟

۱۰) خانم احمدی هر روز صبح ساعت ۷:۱۵ از خانه خارج می‌شود و ربع ساعت بعد به مدرسه می‌رسد، روی



ساعت نشان د چه ساعتی به مدرسه می‌رسد؟

.....

یا

.....

