





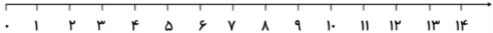


ردیف	سوالات				
۱	<p>شکل‌های هر دو دسته روی هم چندتا می‌شود با چوب خط نشان بده.</p> 				
۲	<p>لبه‌ها را با قرمز و گوشه‌ها را با آبی رنگ بزن.</p> 				
۳	<p>بین هر دو عدد علامت مناسب < > = بگذار.</p> <p>۷۰ ○ ۴۲ ۲۵ ○ ۴۶ ۵ + ۴ ○ ۱۰ - ۱</p>				
۴	<p>در جای خالی عدد مناسب بنویس.</p> <p>۲۰ + ۱۰ + ۴ =</p> <p>۵ + ۳۰ + ۵ =</p>				
۵	<p>نام هر شکل را بنویس.</p>  <p>.....</p> <p>.....</p> <p>.....</p>				
۶	<p>دسته‌های ده‌تایی بساز و جدول را با توجه به آن کامل کن و در جای خالی عدد مناسب بنویس.</p>  <table border="1" style="margin-left: 200px;"> <tr> <td>یکی</td> <td>ده‌تایی</td> </tr> <tr> <td>.....</td> <td>.....</td> </tr> </table> <p>با عدد:</p> <p>با حروف:</p>	یکی	ده‌تایی
یکی	ده‌تایی				
.....				
۷	<p>از عدد ۴۵ تا ۵۵ بنویس.</p> <p>۴۵ - - - - ۴۹ - - - - - ۵۴ -</p>				

۱۳	۳۵	۸
.....	هشتاد	

جمع رو به رو را روی محور نشان بده و جواب آن را بنویس.

$6 + 4 = \dots\dots\dots$



تفریق رو به رو را به کمک شکل کامل کن.



$\dots\dots\dots - \dots\dots\dots = \dots\dots\dots$

زمانی را که ساعت مقابل نشان می دهد روی نقطه چین زیر بنویس.

 $\dots\dots\dots$

الگوی عددی زیر را با دقت ادامه بده.

$0 - 5 - \dots\dots - \dots\dots - \dots\dots - \dots\dots - \dots\dots$

علی ۱۲ مداد آبی و ۵ مداد قرمز دارد. او روی هم چند مداد دارد؟ (با شکل یا چوب خط نشان بده.)

دانش آموز:

نظر معلم:

نظر والدین:

خ خ خ خ ن

جمع و تفریق را به خوبی انجام می دهد.

اعداد را می شناسد و قادر به شمارش است.

مسئله را به خوبی درک و آن را حل می کند.