

باسمه تعالی

نام آموزگار:

نام و نام خانوادگی:

پایه: اول

۱. از ۶۸ تا ۷۵ بنویس.

۲. الگو را ادامه بده.

۰ - ۵ - ۱۰ -

۱۲ - ۲۲ -

۳. عدد قبل و بعد را بنویس.

|  |  |    |  |  |
|--|--|----|--|--|
|  |  | ۸۵ |  |  |
|--|--|----|--|--|

|  |  |    |  |  |
|--|--|----|--|--|
|  |  | ۳۰ |  |  |
|--|--|----|--|--|

۴. با عدد و با حروف بنویس.

پانزده .....

۸۲ .....

چهل و سه .....

۵۴ .....

نود و شش .....

۲۷ .....

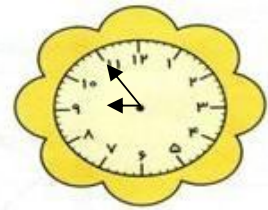
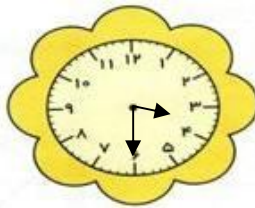
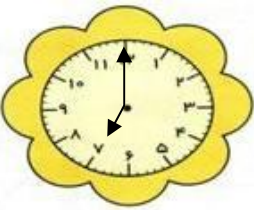
۵. برای عدد ۳۸ شکل بکش در جدول بنویس.

|         |     |
|---------|-----|
| ده تایی | یکی |
|         |     |

شکل ..... حروف .....

۶. ۹ ده تایی و ۵ یکی می شود .....

۶۷ می شود ..... ده تایی و ..... یکی



ساعت .....

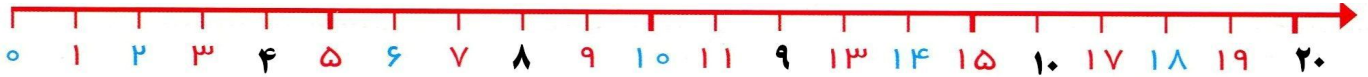
ساعت بین ..... و ..... است.

ساعت کمی مانده به .....


۸. علی ۴ بسته ده تایی و ۳ یکی مداد داشت پدرش ۳ بسته ده تایی دیگر مداد به او داد. حالا علی چند مداد دارد؟

۹. آذر ۲۷ مازیک داشت. ۷ مازیک را به ثریا داد. حالا چند مازیک دارد؟

۱۰. رضا ۱۴ شاخه گل داشت ۶ گل را به پدرش و ۶ گل را به مادرش داد. چند گل برایش مانده؟



۱۱. ۷ بچه در کلاس بودند. زنگ اول ۴ نفر و زنگ دوم ۵ نفر دیگر به کلاس آمدند. حالا چند بچه در کلاس است؟



۱۲. جمع و تفریق کنید.

$$۱۰ + ۲۰ + ۱۰ + ۹ =$$

$$۴۸ - ۸ =$$

$$۳۰ + ۲۰ + ۷ =$$

$$۳۰ - ۱۰ - ۵ =$$

۱۳. با دو رقم ۷ و ۵ عددهای دو رقمی بنویس.

۱۴. جدول را کامل کن.

|   |   |   |   |   |   |
|---|---|---|---|---|---|
| ۵ | ۹ | ۷ | ۴ | ۶ | ۸ |
| ۶ |   | ۸ | ۹ | ۵ |   |
| ۷ | ۶ |   |   | ۴ | ۹ |
| ۴ | ۸ |   |   | ۷ | ۶ |
|   | ۷ | ۴ | ۶ |   | ۵ |
| ۸ | ۵ |   | ۷ | ۹ |   |

۱۵. علامت مناسب > = < بنویس.

$$۷۳ \square ۳۷$$

$$۴۰ - ۲۰ \square ۳۰ + ۱۰$$

۱۶. یک مثلث بکش و داخل آن یک مربع بکش.