

طراح

پایه ی اول

به نام خدای بخشنده ی مهربان
آموزش و پرورش

اردیبهشت ماه



نام و نام خانوادگی:
موضوع: ریاضی

مدت زمان:

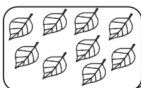


دبستان:

تاریخ:

۱- عزیزم با توجه به عدد برای هر دسته چوب خط بکش .



۲- عدد هر دسته را بنویس و از علامت (< = >) کمتر، بیشتر یا مساوی استفاده کن .



.....



.....

۳- الگوی شمارش را ادامه بده .

۱۵ - ۲۰ - ۲۵ -

۶ - ۸ - ۱۰ -

۴- اعداد زیر را داخل جدول یکی و ده تایی قرار بده و عدد را به حروف بنویس .

۱۸




..... به حروف:

۴۵



..... به حروف:

۵- اندازه شکل زیر چند تا چینه است ؟



اندازه ی مداد است .

۶ - جواب جمع و تفریق ها را بنویس .

$8 + 3 = \square$

$10 + 5 + 3 = \square$

$9 - 3 = \square$

$60 - 10 = \square$


$4 + 5 - 3 =$

۷ - عبارت زیر را روی محور نشان بده .



۸ - برای مسئله ی زیر شکل بکش و عبارت جمع یا تفریق بنویس .

سارا ۱۰ بادکنک داشت . مادرش به او ۳ بادکنک و برادرش ۲ بادکنک دیگر به او دادند . حالا او روی هم چند بادکنک دارد ؟



زمان بین و است .



کمی به ساعت مانده است .

۹ - جاهای خالی را کامل کن .

غیر	تا حدودی	بده	انتقادات آموزشی
			- خوب خط ها را به درستی می کشد .
			- معلوم کمتر و بیشتر را می داند .
			- انگوری شیرازی اندازه را به درستی انجام می دهد .
			- معلوم یکی و ده تایی را می داند .
			- معلوم اندازه گیری را به درستی می داند .
			- جمع و تفریق را به درستی انجام می دهد .
			- عبارت را روی محور به درستی نشان می دهد .
			- معلوم مسئله را به درستی درک می کند .
			- زمان را بدرستی نشان می دهد .

مجموعه سوالات
آموزش ریاضی پایه اول



باز خورد آموزگار :