



## به نام خدا

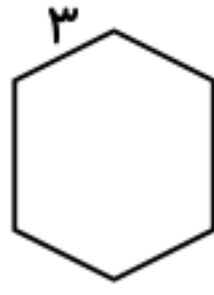
نام درس: ریاضی

نام آموزگار:

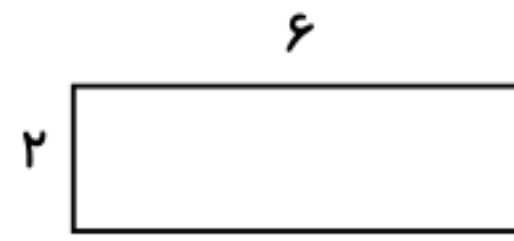
پایه سوم - ارزشیابی نیمسال دوم

نام و نام خانوادگی دانش آموز:

ب) محیط شکل های زیر را به دست آورید.

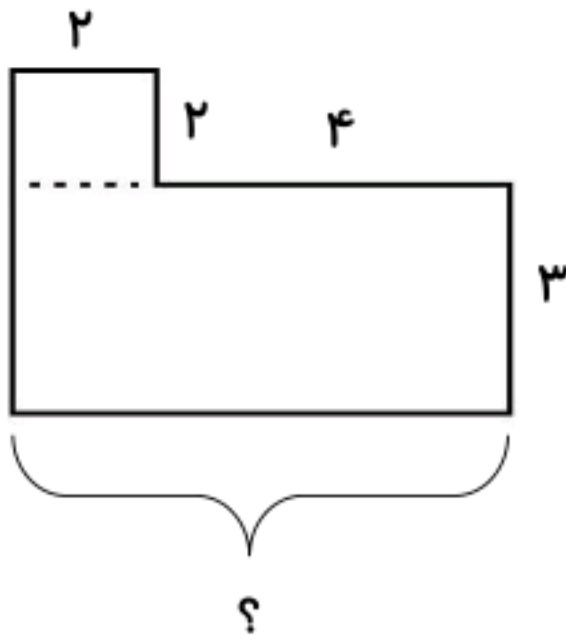


-----



-----

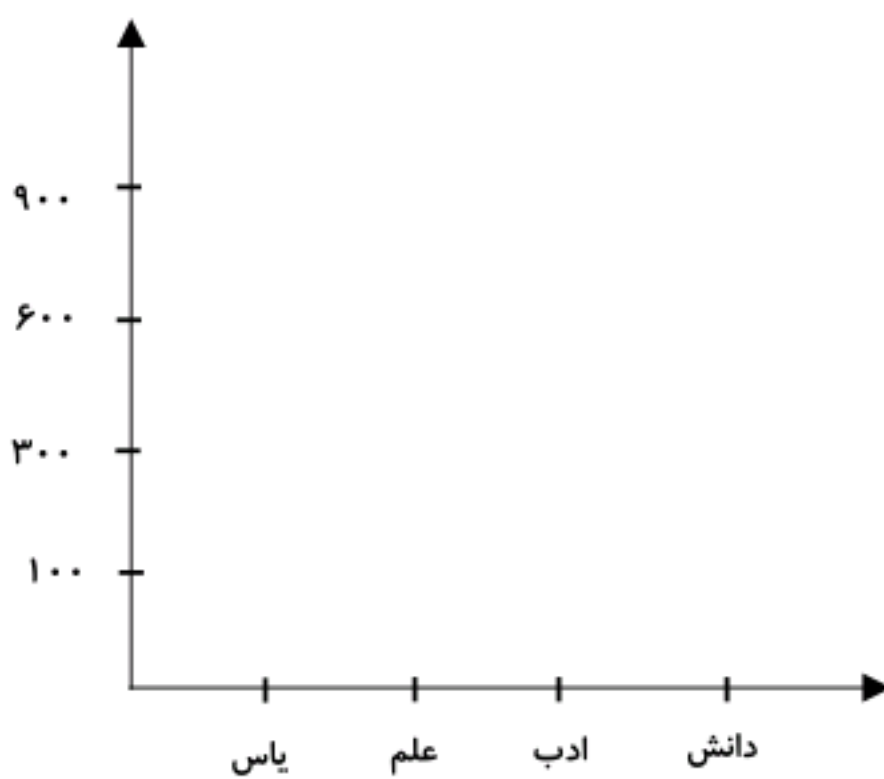
ج) مساحت شکل زیر را به دست آورید.



د) مهنا ۲۷۰۰ تومان و رها ۵۲۰۰ تومان پول دارند. پول این دو نفر روی هم چند تومان می شود؟

ه) دخترم با توجه به جدول داده های زیر نمودار ستونی را کامل کنید.

نام مدرسه	یاس	علم	ادب	دانش
تعداد دانش آموزان	۳۰۰	۹۰۰	۶۰۰	۱۰۰



- کدام مدرسه تعداد دانش آموزان بیشتری دارد؟

.....

# به نام خدا

نام درس: ریاضی

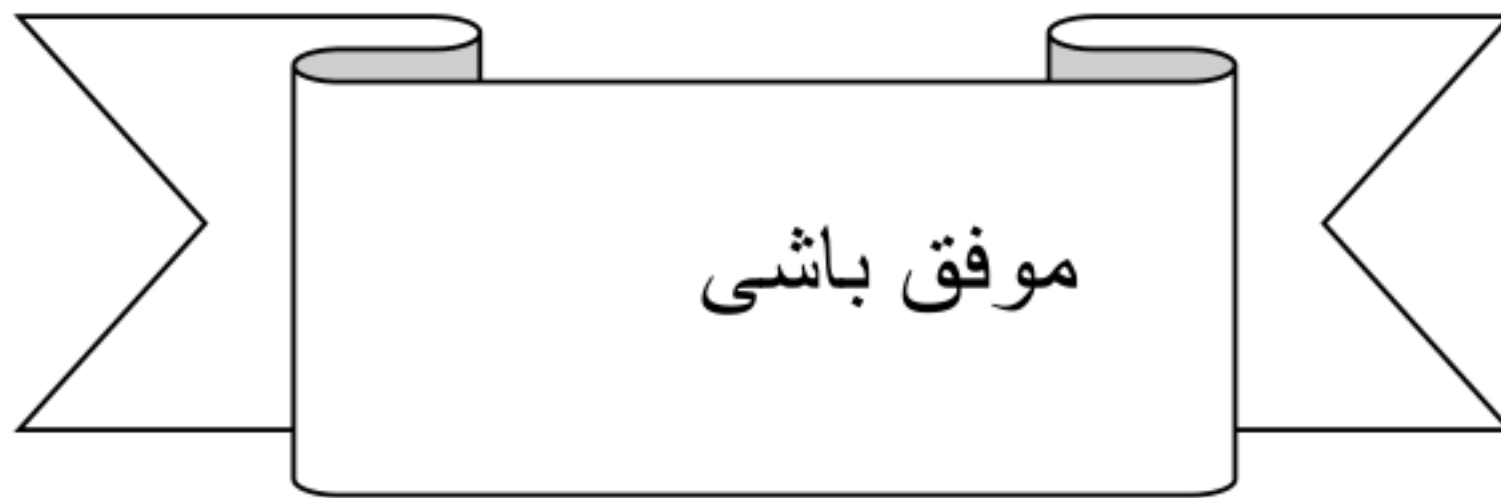
نام آموزگار:

پایه سوم - ارزشیابی نیمسال دوم

نام و نام خانوادگی دانش آموز:

۴- حاصل ضرب زیر را به دست آورید. (روش گسترده کردن)

$$\begin{array}{r} 27 \\ \times 4 \\ \hline \end{array}$$



**بازخورد آموزگار:**

.....

.....

.....

.....

.....

.....