



کار برگ ۲

پایه: دوم

عنوان درس: فصل ۵، اندازه گیری

درس: ریاضی

مفهوم: اندازه گیری وسایل با واحدهای مختلف، ساعت زمان بعد، (صفحه ی ۷۶)

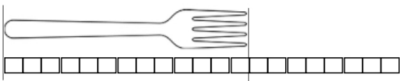
نام دانش آموز:

تاریخ:

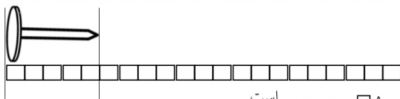
۱- اندازه ی هر شکل را با کامل کردن جاهای خالی مشخص کن.



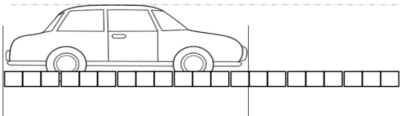
اندازه ی طول مداد و است.



اندازه ی طول چنگال و است.



اندازه ی طول میخ و است.



اندازه ی طول ماشین و است.