










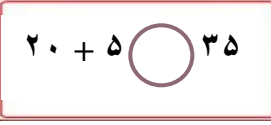

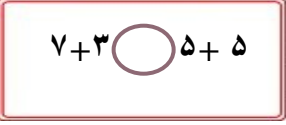


نام و نام خانوادگی :

به نام خدا


نمونه آزمون ریاضی پایه اول


<p>جاهای خالی را طبق نمونه های داده شده ادامه بده.</p> <p>     </p>	<p>۱</p>
<p>جمع های زیر را با استفاده از چوب خط و مداد رنگی حل کن.</p> <p> $4 + 5 + 8 = \dots\dots\dots$  </p> <p> $9 + 3 + 6 = \dots\dots\dots$  </p>	<p>۲</p>
<p>علامت مناسب $>$ $=$ $<$ بگذار.</p> <p>   </p> <p>   </p> <p>   </p> <p>   </p>	<p>۳</p>
<p>علی ۱۴ جوجه زرد و سیاه خرید. ۵ تا از جوجه ها سیاه و بقیه زرد بودند. تعداد جوجه های زرد را بنویسید. (با شکل هم نشان بده)</p>	


<p>جمع های زیر را انجام بده.</p> $۲۰ + ۱۰ + ۵ + ۵ = \dots\dots\dots$ $۲۵ + ۵ + ۵ + ۵ + ۳ = \dots\dots\dots$	$۱۰ + ۵ + ۱۰ + ۱۰ = \dots\dots\dots$ $۱۰ + ۲۰ + ۲۰ = \dots\dots\dots$	۵
<p>محمد ۱۶ مرغ و خروس و جوجه دارد. ۶ تا از آن ها مرغ و ۴ تا خروس هستند. تعداد مرغ و خروس ها چند تا است؟ تعداد جوجه ها چند تا است؟</p> <div style="display: flex; justify-content: space-around;"> <div data-bbox="231 492 702 582"> </div> <div data-bbox="821 515 1117 571"> <p>تعداد مرغ و خروس ها</p> </div> </div> <div style="display: flex; justify-content: space-around; margin-top: 20px;"> <div data-bbox="231 627 702 716"> </div> <div data-bbox="877 638 1069 694"> <p>تعداد جوجه ها</p> </div> </div>		
<p>ساعت چند است.</p> <div style="display: flex; justify-content: space-around; align-items: center;"> <div data-bbox="199 795 478 1064"> <p style="text-align: center;">_____</p> </div> <div data-bbox="534 795 829 1064"> <p style="text-align: center;">_____</p> </div> <div data-bbox="893 795 1204 1097"> <p style="text-align: center;">ساعت ۳ را با عقربه نشان بده</p> </div> </div>		
<p>جمع و تفریق زیر را روی محور نشان بده.</p> <div style="border: 2px solid blue; padding: 5px; width: fit-content; margin: 10px auto;"> $۳ + ۴ + ۵ = \dots\dots$ </div> <div style="text-align: center; margin: 10px 0;"> </div> <div style="border: 2px solid blue; padding: 5px; width: fit-content; margin: 10px auto;"> $۱۴ - ۳ = \dots\dots$ </div> <div style="text-align: center; margin: 10px 0;"> </div>		

۹

تفریق های زیر را انجام بده.

$10 - 3 =$ 

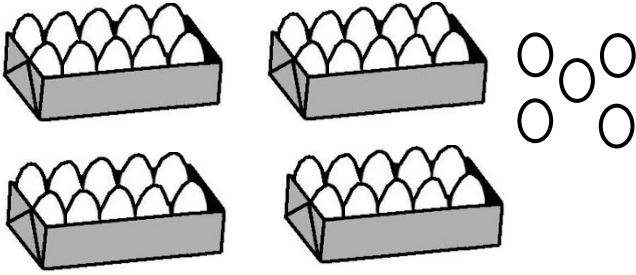
$9 - 5 =$ 

$12 - 7 =$ 

$8 - 3 =$ 

۱۰

جاهای خالی را با عدد مناسب کامل کن.



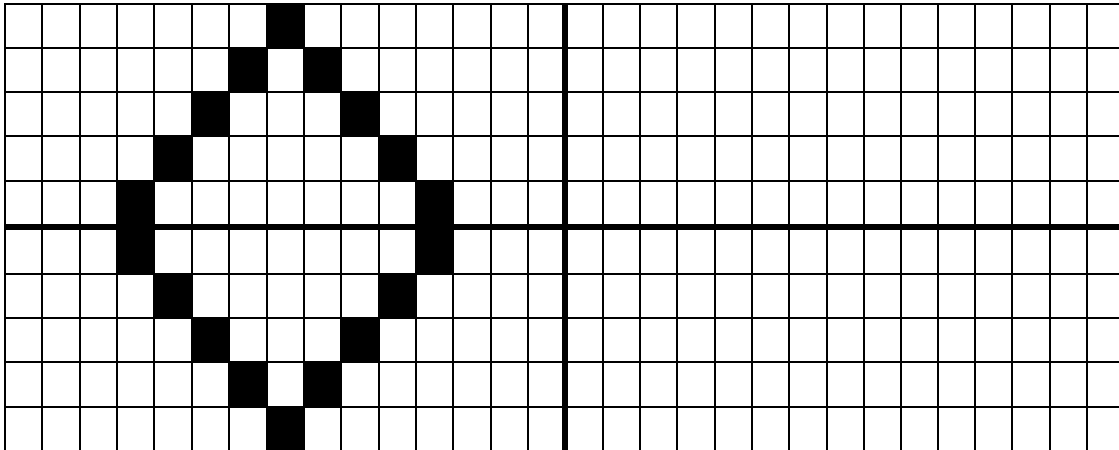
یکی	ده تایی

به رقم

به حروف

۱۱

نمونه الگو داده شده را در قرینه آن بکش.



۱۲

جدول سودوکو زیر را کامل کن.

۶	۲	۹	۸	۳	۷	۱	۴	۵
۷	۸	۱	۴	۹	۵	۳	۲	۶
۴	۳			۶			۹	۷
۵	۷			۴			۸	۱
۹	۴	۶	۳	۱	۸	۷	۵	۲
۸	۱			۵		۶	۳	۴
۲	۹			۸			۶	۳
۱	۶	۸	۵	۲	۳	۴	۷	۹
۳	۵	۴	۹	۷	۶	۲	۱	۸

..... بازخورد آموزگار :
