




نوع آزمون: عملکردی	به نام خدا	نام: شماره: موضوع: علوم هدف: ارزشیابی پایانی ترم دو
--------------------	------------	--

گردی حس بینایی را آبی، حس شنوایی را زرد، حس لامسه را قهوه ای،
حس بویایی را سبز و حس چشایی را قرمز کن.



برای استفاده از تلویزیون از کدام حواس استفاده می کنیم؟
.....

کدام جانور حس شنوایی قوی تری دارد؟



چرا وقتی سرما خورده اید، مزه ی غذا را متوجه نمی شوید؟
.....

لبنیات به چه چیزهایی می گویند؟ (مثل؟)
.....

برای رشد بدن چه چیزهایی باید بخوریم؟
.....

ویتامین در چه چیزهایی است؟
.....

یک غذای گیاهی نام ببر.....

یک غذای حیوانی نام ببر.....

برای هر کدام از حرکت جانوران یک مثال بزن.

پرواز می کند	شنا می کند	می خزد	می جهد	راه می رود
-----------------------	---------------------	-----------------	-----------------	---------------------

چرا جانوران حرکت می کنند ؟

برای هر کدام از پوشش بدن جانوران يك مثال بزن .

پولک	پر	مو	پشم	صدف
.....

به چه جانورانی اهلی می گویند ؟

.....

چرم از چه چیز تهیه می شود ؟

جانوری نام ببر که برای خودش لانه می سازد ؟

گیاهان به چه چیزهایی نیاز دارند ؟

گیاه از چه می روید ؟

دانه کجا قرار دارد ؟

کدام قسمت گیاه تبدیل به میوه می شود ؟

يك ریشه ی خوراکی نام ببر

يك ساقه ی خوراکی نام ببر

يك برگ خوراکی نام ببر

کار ریشه چیست ؟

سه دانه ی روغنی نام ببر

آب به چه صورت هایی در طبیعت وجود دارد ؟

بزرگ ترین آب های روی زمین کجا قرار دارند ؟

چه آبی برای رشد گیاهان مناسب است ؟

چه آبی برای آشامیدن مناسب است ؟

وسیله ای نام ببر که برای کار کردن نیاز به آب دارد ؟

گیاهی را نام ببر که آب را در خود ذخیره می کند ؟

کدام جانور کم آبی را تحمل می کند ؟ در کجا زندگی می کند ؟

کدام جانور مهاجرت می کند ؟

جانوری نام ببر که بچه به دنیا می آورد

سنگ های صاف بیشتر در دیده می شوند و سنگ های نوك تیز در دیده می شوند .

چه خاکی برای سفالگری مناسب است ؟

چه خاکی برای کشاورزی مناسب است ؟

چه جانوری در خاک زندگی می کند ؟

کدام جانور در خاک لانه می سازد ؟

چه چیز یخ را آب می کند ؟

گرما و نور زمین از چیست ؟

در زمستان چه رنگی برای لباسها مناسب است ؟

چه شغلی برای انجام کار به گرما نیاز دارد ؟

ابر به وسیله ی حرکت می کند .

چه چیزی حرکت را آسان می کند ؟

کدام وسیله هوا را آلوده نمی کند ؟ ماشین موتور دوچرخه


جسمی را نام ببر که جذب آهن ربا بشود

کدام قسمت آهن ربا بیشتر می رباید ؟

دو سر هم نام آهن ربا همدیگر را (می ربایند - دور می کنند) .

يك آهن ربای نعلی شکل بکش .

يك وسیله ی قدیمی برای پختن غذا نام ببر
يك وسیله ی قدیمی برای روشنایی خانه نام ببر



ارزشیابی عملکرد	موفق	تا حدودی موفق	ناموفق
۱ توانسته است به کلیه ی سوالات پاسخ درست بدهد.			
۲ تمیز ، خوانا و خوش خط نوشته است.			
۳ در وقت مشخص شده برگه را تحویل داده است.			