

به نام خالق بی همتا

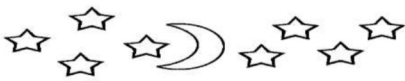

نام و نام خانوادگی :

نام پدر :

نام آموزگار :

پایه : اول ابتدایی

آزمون نوبت دوم

ردیف	سوالات متن	مقیاس
۱	دلبندم ستاره های سمت چپ ماه را با مداد زرد و ستاره های سمت راست ماه را با مداد سبز رنگ کن. 	خ خ ق ق ن
۲	نازنینم از عدد ۱۰۰ تا ۶۵ پنج تا پنج بشمار و بنویس. $۱۰۰ - \dots - \dots - \dots - \dots - \dots - ۶۵$	خ خ ق ق ن
۳	۴ اردک در آب بودند ۵ اردک دیگر به آن ها اضافه شدند. چند اردک در آب است؟ (با رسم چوب خط).	خ خ ق ق ن
۴	دلبندم اعداد را با حروف بنویس. $۱۱ \dots \dots \dots$ $۳۱ \dots \dots \dots$ $۵۰ \dots \dots \dots$ $۹۱ \dots \dots \dots$	خ خ ق ق ن
۵	حمید ۱۸ کتاب داستان دارد. امروز پدرش ۹ کتاب داستان دیگر به او داد. حالا حمید چند کتاب دارد؟ (با محور). 	خ خ ق ق ن
۶	جمع و تفریق های زیر را انجام بده. $۵+۵+۵+۵=$ $۱۰+۲۰+۵=$ $۲۰+۳۰=$ $۱۰+۵-۵=$ $۵-۵=$ $۱۰-۶=$	

به نام خالق بی همتا

نام و نام خانوادگی:

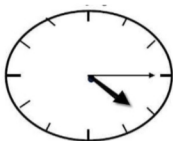
نام پدر:

نام آموزگار:

پایه: اول ابتدایی

آزمون نوبت دوم

دلبندم جاهای خالی را پر کن.



زمان بین ساعت و می باشد.

ساعت از گذشته است.

خ
خ
ق
ق
ن

۷

عزیزم جدول سودوکو اعداد را کامل کن.

۴	۲	۵		۱	۳
۳	۶		۴	۵	
	۳	۴		۶	۱
۶	۱		۵	۳	
۲		۳		۴	۶
	۴	۶	۳		۵



خ
خ
ق
ق
ن

۷

گل من در بین عدد ها از علامت < = > استفاده کن.



خ
خ
ق
ق
ن

۱۰

نیاز به تلاش بیشتر

قابل قبول

خوب

باز خورد نهایی آموزگار: خیلی خوب