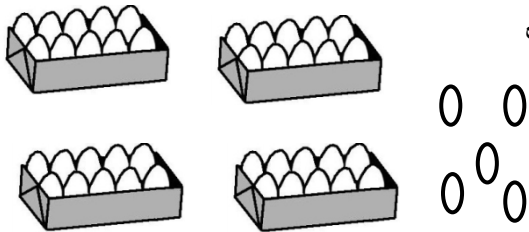


به نام خدا

آزمون ریاضی پایه اول - اردیبهشت ماه

نام و نام خانوادگی: .....



باتوجه به شکل جدول را کامل و عدد مربوط را خارج جدول بنویس

ده تایی	یکی

۱

\_\_\_\_\_

پاسخ جمع ها را به کمک چوب خط بنویس.

$$4 + 3 + 3 + 5 = \square$$

$$6 + 7 = \square$$



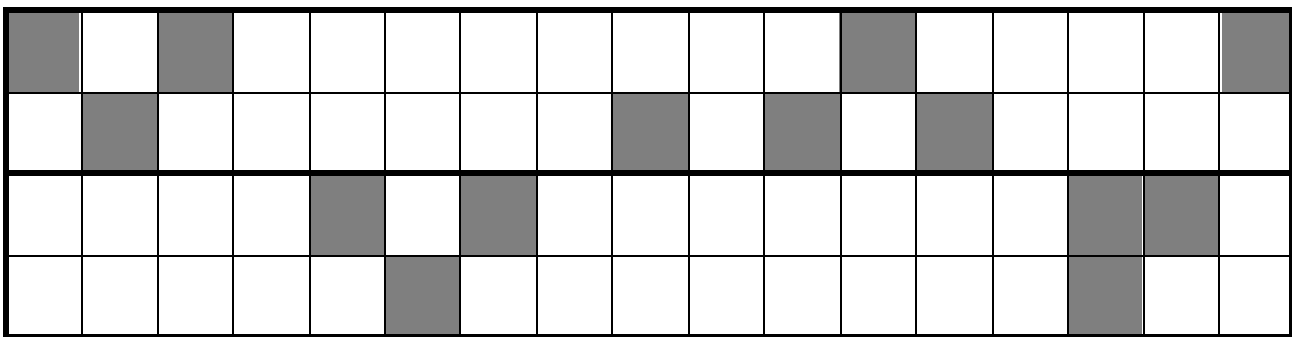
۲

جاهای خالی را با عدد مناسب کامل کن .

۵	۱۰					۳۵			
---	----	--	--	--	--	----	--	--	--

۳

شکل را طوری کامل کن که دونیمه ی آن مثل هم باشد .



۴

جواب هر جمع را به صورت ذهنی حساب کن و بنویس .

$$20 + 10 + 5 + 10 = \square$$

$$10 + 5 - 3 = \square$$

۵

۶ دنباله ی عددها را به ترتیب بنویس.

۶۵	۶۶	۶۷							
----	----	----	--	--	--	--	--	--	--

۷ درهر ردیف پاسخ عبارت ها را بنویس ودور علامت مناسب  $\langle = \rangle$  خط بکش.

$$20 + 20 = \square \quad \langle = \rangle \quad 50 - 20 = \square$$

$$7 + 5 = \square \quad \langle = \rangle \quad 6 + 8 = \square$$


۸ با رقم یا حروف بنویس .

هفده		هفتاد و شش	
	۴۹		۹۰

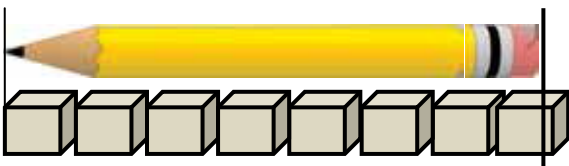
۹ با توجه به شکل جاهای خالی را کامل کن.



$$\dots - \dots = \dots$$



$$\dots + \dots = \dots$$



۱۰ اندازه ی مداد بین ..... و ..... است .

مسئله را با چوب خط یا شکل ساده حل کن و عبارت جمع یا تفریق آن را بنویس .

۷ اردک در آب بودند . ۳ اردک دیگر هم به آن ها اضافه شدند .

حالا چند اردک در آب است ؟

حالا..... اردک در آب است

مسئله را به کمک محور حل کن . (عبارت جمع یا تفریق آن را هم بنویس)

۱۲ پرنده روی درخت بودند . ۴ تا از پرنده ها پرواز کردند و رفتند .

چند پرنده مانده است ؟



۰ ۱ ۲ ۳ ۴ ۵ ۶ ۷ ۸ ۹ ۱۰ ۱۱ ۱۲ ۱۳ ۱۴ ۱۵

..... پرنده مانده است .

موفق و سربلند باشید

باز خورد معلم :