

شمار


صورت سوال

۵

به حروف یا عدد بنویس.

دو هزار و چهارده:

3617 :



یکان	دهگان	صدگان	هزارگان

1

به حروف: به رقم:

مقایسه کن:

2450 2045 1400 ریال 250 تومان 2 متر 180 سانتی‌متر2600 گرم 2 کیلو و 600 گرم دو واحد و $\frac{1}{3}$ واحد یک واحد و $\frac{1}{2}$ واحد

2

جاهای خالی را کامل کن:

..... یعنی 2 یکی و 3 صدتایی و 4 هزارتایی.

260 تومان یعنی ریال

4 سانتی متر و 5 میلی متر یعنی میلی متر

158 سانتی متر یعنی متر و سانتی متر

8012 متر یعنی کیلومتر و متر.

وسیله اندازه گیری زاویه راست نام دارد.

یک قطر از شعاع درست شده است.

3

الگوها را ادامه بده:

1, 3, 6, 10, , , , 2200, 2400, 2600

6545, 6645, 6745, , , , 932, 942, 952

1100, 1300, 1500, , , , 725, 730, 735

4

ماشین ها را کامل کن:

8
19



21

24
15



40
23

5


تمام عددهای چهاررقمی که رقم یکان 2، رقم دهگان 3 و 4، رقم صدگان 5 و 6 و 0 و رقم هزارگان 7 باشد بنویس.

6

✓ کوچکترین عددی که ساختی کدام است؟

جایگاه عددهای زیر را روی محور نشان بده:

114 - 4698 - 2732 - 1445



$\frac{1}{3}$ واحد مانده به عدد 3

✓ این جایگاه یعنی _____ واحد بعد از عدد

7



ساعت : بعد از ظهر یا : است.

یا مانده به ساعت 7 است.

عقربه بزرگ از ساعت 6 چه کسری از ساعت را طی کرده است؟ _____ ساعت

چه کسری از ساعت به ساعت 7 مانده است؟ _____ ساعت

8

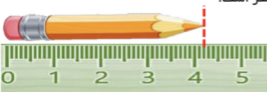
طول مداد از سانتی متر بیشتر و سانتی متر کمتر است.

طول مداد سانتی متر و میلی متر است،

یعنی طول مداد میلی متر است.

طول مداد سانتی متر و _____ سانتی متر است.

9



<p>پدر علی و محمد به هر کدام مقدار مساوی پول داد. اگر علی $\frac{2}{3}$ پولش و محمد $\frac{2}{4}$ پولش را صدقه دهند، کدامیک مقداری بیشتری صدقه داده است؟</p> <p>در یک مغازه گل‌فروشی یک کمد دیواری 6 قفسه دارد. در هر قفسه 5 گل‌دان وجود دارد. در هر گل‌دان 2 گل وجود دارد.</p> <p>✓ در دو قفسه این کمد چند گل وجود دارد؟ ✓ در سه قفسه این کمد چند گل‌دان وجود دارد؟ ✓ الگوی بین گل‌دان‌ها در هر قفسه را بنویس. ✓ هر یک قفسه که پایین می‌آییم الگوی بین گل‌ها را بنویس.</p>	<p>10</p> <p>11</p>
<p>1 دلار کشوری به اندازه 1300 تومان ارزش دارد. 3 دلار ارزش بیشتری دارد یا 3000 تومان؟</p>	<p>12</p>
<p>مادر سارا خیاط است. او یک پارچه مستطیل شکل را به دو قسمت مساوی تقسیم کرد. با یک قسمت آن پیراهن دوخت. نیمه دیگر را به 2 قسمت مساوی تقسیم کرد و با یک نیمه آن روسری دوخت. با قسمت از قسمت مساوی پیراهن دوخته است. با قسمت از قسمت مساوی روسری دوخته است.</p>	<p>13</p>
<p>ضرب‌های زیر را با هر روشی دوست داری حساب کن:</p> <p>$5 \times 2 = \square$</p> <p>$3 \times 6 = \square$</p>	<p>14</p>