

# به نام خالق زیبایی ها



نام و نام خانوادگی:

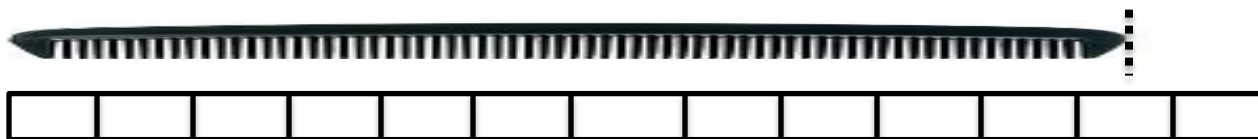
موضوع: آزمون ارزشیابی ریاضی فصل ( ۵ ، ۶ ، ۷ )

۱- با رنگ کردن چینه ها در جای خالی عدد مناسب بگذارید .

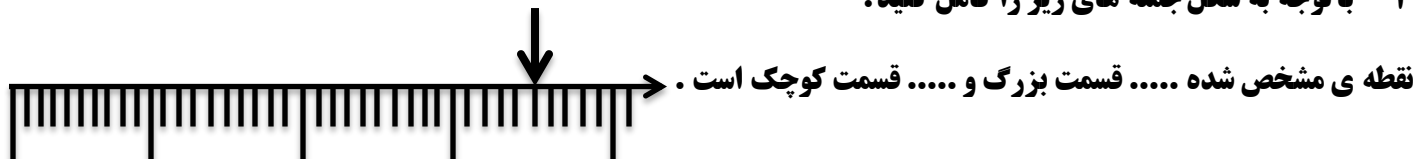


اندازه ی فلش ..... و ..... است .

۲- طول شانه بین ..... چینه و ..... چینه است . یعنی از ..... چینه بیشتر و از ..... کمتر است .



۳- با توجه به شکل جمله های زیر را کامل کنید .



نقطه ی مشخص شده ..... واحد و ..... قسمت از ..... قسمت مساوی است .



۴- با استفاده از خط کش طول خط های زیر را اندازه بگیرید .

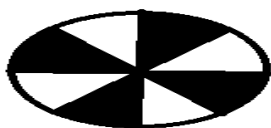


طول این خط ..... سانتی متر و ..... میلی متر است .



طول این خط ..... سانتی متر و ..... قسمت از ..... قسمت مساوی است .

۵- با توجه به شکل جملات را کامل کنید .



..... قسمت از ..... قسمت مساوی رنگ شده است .

..... قسمت از ..... قسمت مساوی رنگ شده است .

۶- حاصل جمع و تفریق های زیر را بدست آورید .

با استفاده از روش فرایندی

$$\begin{array}{r} 363 \\ + \\ \hline 514 \end{array}$$

$$\begin{array}{r} 985 \\ - \\ \hline 643 \end{array}$$



با استفاده از روش تکنیکی

$$\begin{array}{r} 587 \\ + \\ \hline 296 \end{array}$$

$$\begin{array}{r} 701 \\ - \\ \hline 348 \end{array}$$

۷- قد مهدی ۱۷۳ سانتی متر است و برادرش ۱۶ سانتی متر از او کوتاهتر است .

الف) قد برادر مهدی چند سانتی متر است ؟

ب) قد مهدی و برادرش روی هم چند سانتی متر است ؟


۸- علی ۸۰۰ ریال پول داشت . او یک مداد به قیمت ۱۸۰ ریال و یک دفتر به قیمت ۲۴۵ ریال خرید .

الف) علی چند ریال از پول هایش را خرج کرده است ؟

ب) چقدر برایش باقی مانده است ؟

۹- در یک کیسه ۹ عدد توپ است . ۴ تایی آن زرد و ۳ تایی آن نارنجی و ۲ تایی دیگر آبی است .

اگر بدون نگاه کردن یک توپ از کیسه بیرون آوریم . شانس کدام توپ بیشتر است ؟ چرا ؟



..... دسته ی ..... تایی



..... دسته ی ..... تایی

۱۰- با توجه به شکل کامل کنید .

۱۰- یک صفحه ی چرخنده مثل شکل زیر رنگ شده است .

الف) ..... قسمت از ..... قسمت شکل صورتی است .

ب) احتمال ایستادن عقربه روی کدام رنگ کمتر است ؟ چرا ؟

