



# کار برگ ۱

درس: ریاضی

عنوان درس: فصل ۵، اندازه گیری


پایه: دوم

مفهوم: اندازه گیری با وسایل مختلف / رسم شکل با توجه به اندازه ی داده شده / مجهول یابی / ساعت (زمان بعد)، (صفحه ی ۷۴ و ۷۵)

نام دانش آموز:

تاریخ: / /


۱- جاهای خالی را با عدد مناسب کامل کن.



طول مداد بین ..... مستطیل و ..... مستطیل است.

یعنی از ..... مستطیل بیش تر است ولی به ..... مستطیل نمی رسد.

۲- اندازه ی طول این مداد را که با وسایل مختلف اندازه گیری شده است؛ بنویس.



طول مداد ..... پاک کن است.




طول مداد ..... چینه است.



طول مداد ..... گیره است.



۳- با توجه به عددهایی که در پایین داده شده، یک خط رسم کن.



اندازه ی خط ۴ قسمت بزرگ و ۷ قسمت کوچک است.

۴- جاهای خالی را با عدد مناسب کامل کن.

طول کفش بین ..... مثلث و ..... مثلث است.



یعنی از ..... مثلث بیش تر است ولی به ..... مثلث نمی رسد.

