

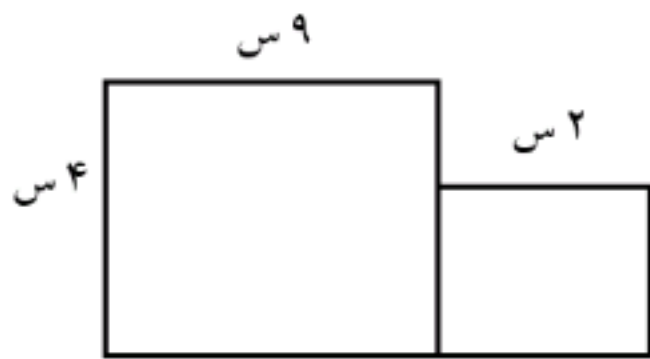


ردیف	سؤالات
۱	<p>درست و نادرست بودن جملات زیر را مشخص کنید</p> <p>الف) عدد ۸۴۵۱ از عدد ۸۴۱۵ کوچکتر می باشد. ص <input type="checkbox"/> غ <input type="checkbox"/></p> <p>ب) ۴۰۰۰ گرم همان ۴ کیلوگرم می باشد. ص <input type="checkbox"/> غ <input type="checkbox"/></p>
۲	<p>گزینه مناسب را انتخاب کنید.</p> <p>۱) ۷ کیلومتر و ۱۵ متر یعنی ..... متر</p> <p>الف) ۱۵۷۰ <input type="checkbox"/> ب) ۷۱۵۰ <input type="checkbox"/> ج) ۷۱۰۵ <input type="checkbox"/> د) ۷۰۱۵ <input type="checkbox"/></p> <p>۲) ارزش مکانی رقم ۱ در کدام یک از اعداد زیر یک هزارتایی می باشد.</p> <p>الف) ۸۷۴۱ <input type="checkbox"/> ب) ۲۷۱۴ <input type="checkbox"/> ج) ۳۱۸۴۰ <input type="checkbox"/> د) ۱۰۹۸۳ <input type="checkbox"/></p>
۳	<p>جاهای خالی را پر کنید.</p> <p>الف) گسترده‌ی عدد ۴۷۴۰ می شود. .... + ..... + .....</p> <p>ب) ۶۴۳۲ گرم یعنی ..... کیلوگرم و ..... گرم</p>
۴	<p>نرگس ساعت ۹ صبح به مدرسه رفت و ۷ ساعت در مدرسه مانده است. نرگس تا ساعت چنده بعد از ظهر در مدرسه بوده است؟</p>
۵	<p>عدد داده شده را روی محور نشان دهید.</p> <div style="display: flex; justify-content: space-around; align-items: center;"> <div style="text-align: center;">  <p><math>\frac{3}{4}</math> واحد بعد از ۱</p> </div> <div style="text-align: center;">  <p><math>\frac{4}{5}</math> واحد مانده به ۴</p> </div> </div>
۶	<p>مریم ۶ دفتر خرید که قیمت هر کدام ۹۰ و یک اسکناس ۱۰۰۰ تومانی به فروشنده داد.</p> <p>الف) مریم چند تومان خرج کرده است؟</p> <p>ب) مریم چند تومان باید پس بگیرد؟</p>
۷	<p>در جای خالی علامت <math>&lt; = &gt;</math> را قرار دهید</p> <p><math>۶ \div ۶</math> <input type="checkbox"/> <math>۶</math></p> <p><math>۶ \times ۶</math> <input type="checkbox"/> <math>۶ \times ۷</math></p> <p><math>۴۰۰ + ۵</math> <input type="checkbox"/> <math>۴۰۰ - ۵</math></p> <p><math>\frac{۴}{۶}</math> <input type="checkbox"/> <math>\frac{۴}{۵}</math></p> <p><math>(۷+۲۸) \times ۹</math> <input type="checkbox"/> <math>۶ \times ۹</math></p> <p><math>\frac{۳}{۴}</math> <input type="checkbox"/> <math>\frac{۱}{۴}</math></p>

سوالات صفحه ۲

۸ طول مستطیلی ۱۲ سانتی متر و عرض آن نصف طول آن است محیط این مستطیل را به دست آورید؟

۹ مساحت شکل زیر را به دست آورید.



۱۰ جمع و تفریق زیر را بنویسید.

$$\begin{array}{r} 7496 \\ + 1879 \\ \hline \end{array}$$

$$\begin{array}{r} 7800 \\ + 2900 \\ \hline \end{array}$$

$$\begin{array}{r} 749 \\ + 7 \\ \hline \end{array}$$

$$\begin{array}{r} 58 \\ \times 7 \\ \hline \end{array}$$

۱۱ ضرب های زیر را انجام دهید

۱۲ تقسیم های زیر را انجام دهید و دور باقیمانده خط بکشید.

$$36 \overline{) 9}$$

$$23 \overline{) 5}$$

$$38 \overline{) 7}$$

۱۳ در جدول زیر تعداد و انواع درخت های یک پارک را نشان داده است نمودار دایره ای، نمودار ستونی مربوط به اطلاعات جدول زیر را کامل کنید.

تعداد	نوع درخت
۲۰۰	کاج
۱۵۰	سرو
۵۰	بلوط

نمره به حروف .....

نمره به عدد .....

با آرزوی موفقیت