

به نام او که همه چیز را می داند

معلم مربوطه :

نام و نام خانوادگی دانش آموز :

شاگرد پرتلاشم جدول زیر را با دقت کامل کن.

x	۲	۴	۱۲	۵۴	۷۶	۸۲	۹۱	۲۳	۸۱
۱۰									
۱۰۰									

عزیزم تساوی های زیر را با دقت کامل کن.

$$۴۷۰ \times \underline{\quad} = ۴۷۰۰$$

$$\underline{\quad} \times ۲۸ = ۲۸۰۰$$

$$\underline{\quad} \times ۱۶ = ۱۶$$

$$۳۵ \times \underline{\quad} = ۰$$

$$۷۰ \times ۶۰ \times ۱۰ = \underline{\quad}$$

$$۸۰ \times ۲ \times ۱۰ = \underline{\quad}$$

$$۲۰ \times ۲۰ \times ۹۰ = \underline{\quad}$$

$$۱۰ \times ۷۴ = \underline{\quad}$$

$$۳۰ \times ۰ = \underline{\quad}$$

$$۷۳ \times \underline{\quad} = ۷۳۰$$

$$۹۵ \times \underline{\quad} = ۹۵$$


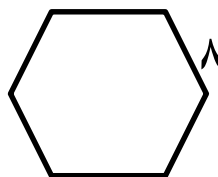

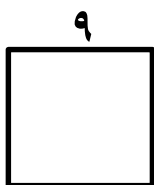
$$۵۰ \times ۳۰ \times ۱۰ = \underline{\quad}$$

$$۴۰ \times ۲۰ \times ۳ = \underline{\quad}$$

$$۱۰۰ \times ۱۰ \times ۳۵ = \underline{\quad}$$



محیط شکل های زیر را با کمک نوشتن یک عبارت ضرب محاسبه کن.



بازخورد آموزگار :

به نام او که همه چیز را می داند

معلم مربوطه :

نام و نام خانوادگی دانش آموز :


شاگرد باهوش و خویم مانند نمونه حاصل ضرب های زیر را با کمک رسم شکل محاسبه کن.

$$2 \times 35 = \underline{\quad 70 \quad}$$

$$30 + 5 = 35$$



$$2 \times 30 = \underline{\quad 60 \quad}$$



$$2 \times 5 = \underline{\quad 10 \quad}$$

$$2 \times 44 =$$

$$3 \times 24 =$$

$$4 \times 14 =$$

$$2 \times 36 =$$



بازخورد آموزگار :

به نام او که همه چیز را می داند

معلم مربوطه :

نام و نام خانوادگی دانش آموز :

شاگرد باهوش و خوب مانند نمونه حاصل ضرب های زیر را با کمک رسم شکل محاسبه کن.

$$2 \times 235 = \underline{\quad}$$

$$200 + 30 + 5 = 235$$



$$2 \times 200 = \underline{400}$$



$$2 \times 30 = \underline{60}$$



$$2 \times 5 = \underline{10}$$

$$2 \times 234 =$$

$$2 \times 125 =$$

$$3 \times 144 =$$



بازخورد آموزگار :

به نام او که همه چیز را می داند

معلم مربوطه :

نام و نام خانوادگی دانش آموز :

عزیزم حاصل ضرب های زیر را بصورت تقریبی محاسبه کن.

$$94 \times 64 \rightarrow \underline{\quad} \times \underline{\quad} = \underline{\quad}$$

$$43 \times 76 \rightarrow \underline{\quad} \times \underline{\quad} = \underline{\quad}$$

$$16 \times 27 \rightarrow \underline{\quad} \times \underline{\quad} = \underline{\quad}$$

$$31 \times 67 \rightarrow \underline{\quad} \times \underline{\quad} = \underline{\quad}$$

حاصل ضرب های زیر را با دقت محاسبه کن.

$$\begin{array}{r} 74 \\ \times 2 \\ \hline \end{array}$$

$$\begin{array}{r} 28 \\ \times 3 \\ \hline \end{array}$$

$$\begin{array}{r} 36 \\ \times 4 \\ \hline \end{array}$$

$$+ \underline{\quad}$$

$$+ \underline{\quad}$$

$$+ \underline{\quad}$$

$$\begin{array}{r} 241 \\ \times 2 \\ \hline \end{array}$$

$$\begin{array}{r} 363 \\ \times 2 \\ \hline \end{array}$$

$$\begin{array}{r} 132 \\ \times 3 \\ \hline \end{array}$$

$$+$$

$$+$$

$$+$$

$$+ \underline{\quad}$$

$$+ \underline{\quad}$$

$$+ \underline{\quad}$$

بازخورد آموزگار :

به نام او که همه چیز را می داند

معلم مربوطه :

نام و نام خانوادگی دانش آموز :

شاگرد خویم تقسیم های زیر را با دقت محاسبه کن.

$$33 \overline{) 5}$$

$$44 \overline{) 9}$$

$$23 \overline{) 4}$$

$$17 \overline{) 2}$$

$$19 \overline{) 6}$$

$$82 \overline{) 9}$$

$$55 \overline{) 9}$$

$$38 \overline{) 6}$$

$$50 \overline{) 8}$$



بازخورد آموزگار :