


پایه ی اول  
به نام خدای خوب



نام زیبایی من: .....

تاریخ: .....

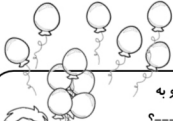
۱- جاهای خالی را با اعداد مناسب کامل کن.

۱۱	۸۰	۶۹	۹۴	۸۷	۱۹	۵۵
-----	-----	-----	-----	-----	-----	-----

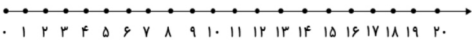
۳۴ - ۳۶ - ۳۸

۲۷ - ۳۷ - ۴۷

۲- با توجه به شکل روبه رو مسئله را کامل کن و با کمک محور حل کن.



علی ----- بادکنک در دست داشت. ----- بادکنک از دستش رها شد و به آسمان رفت. حالا ----- ؟



۳- جواب جمع ها و تفریق های زیر را به دست بیاور و علامت < = > بگذار.

$۶۰ - ۲۰$	$۶۰ - ۱۰$	$۹۰ - ۳۰$	$۳۰ + ۴۰$	$۷۰ - ۵۰$	$۵۰ - ۳۰$
$۵۰ + ۲۰$	$۳۰ - ۲۰$	$۲۰ - ۵$	$۲۰ - ۱۰$	$۶۰ + ۲۰$	$۱۰ + ۸۰$

۴- با توجه به اعداد جاهای خالی را کامل کن.

ده تایی و یکی می شود ----- با حروف: ۵۴	ده تایی و یکی می شود ----- با حروف: ۷۶
ده تایی و یکی می شود ----- با حروف: ۱۳	ده تایی و یکی می شود ----- با حروف: ۹۰

۵- نام شکل های زیر را بنویس.



۶- با توجه به هر ساعت جاهای خالی را کامل کن. (عقربه ی پر رنگ عقربه ی ساعت شمار است.)



ساعت بین ..... و ..... است.



ساعت بین ..... و ..... است.



ساعت بین ..... و ..... است.



ساعت بین ..... و ..... است.



ساعت بین ..... و ..... است.



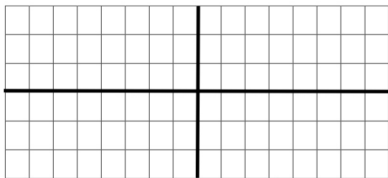
ساعت بین ..... و ..... است.

۷- مسئله ها را از هر راهی که دوست داری حل کن.

۹ کیوی و ۸ پرتقال در ظرف بود. مهمان ها ۶ میوه را خوردند. چند میوه در ظرف مانده است؟

۵ ماشین پژو و ۷ ماشین پراید در گاراژ پارک بودند. ۴ ماشین از گاراژ خارج شدند. چند ماشین در

گاراژ مانده اند؟



۸- یک طرح فرش  
با سلیقه ی  
خودت بزن.

باز خورد آموزگار

