

۱- در هر قسمت عددهای مناسب بنویس .

از عدد ۳۶ تا ۴۶ یکی یکی بنویس .

از عدد ۱۰ تا ۱۰۰ ده تا ده تا بنویس .

از عدد ۱۵ تا ۶۰ پنج تا پنج تا بنویس .

از عدد ۶ تا ۳۶ شش تا شش تا بنویس .

۲- جدول زیر را کامل کنید.

۱	۲	۳	۴
۴			۱
۲	۱		۳
۳	۴	۱	۲

۳- عدد مربوط به هر شکل را با رقم و حروف بنویس .



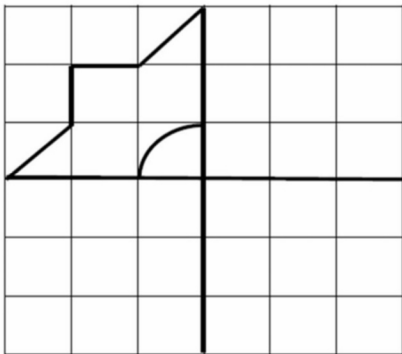
.....
.....



.....
.....

نام و نام خانوادگی: آموزشگاه: نوع آزمون:
 کلاس: طراح سوال: زمان آزمون:
 ۲

۴- کامل کن.



۵- جواب جمع و تفریق را بنویس ، مقایسه کن و علامت مناسب را انتخاب کن .

$66 - 6 = \square$

< = >

$20 + 5 = \square$

$20 - 2 = \square$

< = >

$14 + 3 = \square$

$40 + 5 = \square$

< = >

$10 + 37 = \square$

۶- با عدد و یا با حروف بنویس.

..... ← ۶۴


..... پنجاه و سه

..... ← ۹۰

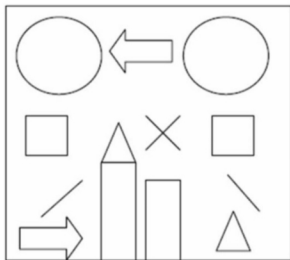
..... هفتاد و هشت

نام و نام خانوادگی:	آموزشگاه:	نوع آزمون:	۴
کلاس:	طراح سوال:	زمان آزمون:	

۱۱- الگویابی زیر را ادامه بده .



۱۲- با توجه به شکل رو به رو ، موارد خواسته شده را انجام بده .



الف : گوشه های مربع سمت چپ را قرمز کن .

ب : داخل دایره ی سمت راست را آبی کن .

پ : داخل مستطیل بلند تر را سبز کن .

ت : گوشه های مثلث روی مستطیل را نارنجی کن .

ث : خط های راست را قهوه ای کن .

ج : داخل دایره ی سمت چپ به اندازه ی بزرگترین عدد یک رقمی چوب خط بکش .

چ : داخل فلشی که جهت حرکت به سمت راست را نشان می دهد ، کو چکترین عدد دو رقمی را بنویس .