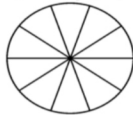




• تعداد دانش آموزانی که به شهرهای مختلف سفر کرده‌اند، در جدول زیر مشخص شده است:

| | | | | | | |
|-------|------|--------|-------|-------|-------|-----|
| شهر | مشهد | اصفهان | تبریز | شیراز | تهران | یزد |
| تعداد | ۲۵ | ۱۵ | ۵ | ۲۰ | ۳۰ | ۵ |



▪ اگر هر قسمت نشان‌دهنده‌ی ۱۰ نفر باشد، با رنگ کردن، وضعیت شهرهایی که به آن‌جا سفر شده را نشان بده.

• کتاب‌هایی که امیرمهدی در کتاب‌خانه‌ی خود دارد، در نمودار زیر آمده است. کوچکترین قسمت نمودار نشان دهنده‌ی ۵ کتاب است.

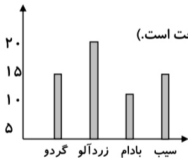


▪ چند کتاب با موضوع علمی هستند؟

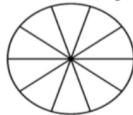
▪ چند کتاب از کتاب‌های او تخیلی هستند؟

▪ امیرمهدی در کتاب‌خانه‌ی خود چند کتاب دارد؟

• با توجه به تعداد درختان باغی در شهریار، نمودار زیر رسم شده است:



اطلاعات نمودارستونی را روی نمودار دایره‌ای نشان بده. (هر قسمت دایره ۵ درخت است.)



• تعداد بعضی از گل‌هایی که در یک هفته در گل فروشی فروخته شده، در جدول زیر نوشته شده است:

اطلاعات جدول را بر روی نمودار دایره‌ای نشان بده و به سوالات پاسخ بده.

| | | | | |
|--------|------|------|-----|------|
| نوع گل | مریم | میخک | رُز | نرگس |
| تعداد | ۲۰ | ۱۰ | ۵۰ | ۲۰ |

▪ کدام گل کمتر فروخته شده است؟

▪ مقدار فروش کدام گل‌ها با هم برابر است؟

▪ چه کسری از گل‌های فروخته شده رُز است؟

▪ تعداد گل‌های فروخته شده در یک هفته چندتاست؟

