

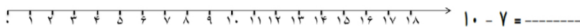
۱- پسر گلم جاهای خالی را با عدد مناسب پر کن.




۲- عزیزم پاسخ هر قسمت را بنویس و مقایسه کن و علامت کمتر و بیشتر را انتخاب کن.



۳- عزیز دلم به کمک محور جمع یا تفریق کن.




۴- پسر گلم الگوهای زیر را ادامه بده.



۵- عزیزم حاصل جمع های زیر را بدست بیاور و چوب خط آن را بگذار.


 $9 + 8 = \underline{\quad}$


 $4 + 2 + 5 + 3 =$

۶- عزیز دلم برای جدول زیر شکل بکش.






۷- گل بسرم زمان ساعت های زیر را بنویس.



۸- گل بسرم حروف را به عدد تبدیل کن.



یازده نوزده چهل و سه
 بیست سی و یک پنجاه و هفت

۹- گل بسرم جاهای خالی را پر کن.

$20 + 5 + 10 - 10 = \underline{\quad}$ $10 + 5 + 3 = \underline{\quad}$
 $20 + 20 + 10 + 5 = \underline{\quad}$ $10 + 20 + 5 + 4 = \underline{\quad}$

۱۰- عزیز دلم چوبانی ۸ گوسفند داشت، صاحب گله ۹ گوسفند دیگر را از بازار خرید و به چوبان داد. حالا چوبان چند گوسفند را نگهداری می کند؟