


کاربرگ ریاضی مبحث مسئله (جمع)


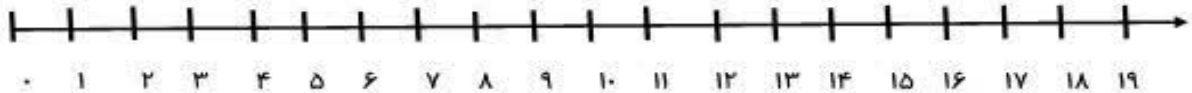
مسئله های زیر را با دقت بخوان ، برای هر مسئله شکل ساده بکش ، جواب را پیدا کن و روی محور نشان بده.



۲ اردک در آب بودند.

۴ اردک دیگر هم داخل آب رفتند .

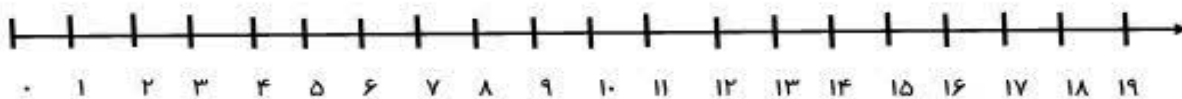
چند اردک در آب است؟




۳ ماهی در تنگ بودند .

۷ ماهی دیگر هم در تنگ انداختیم.

چند ماهی در تنگ است؟

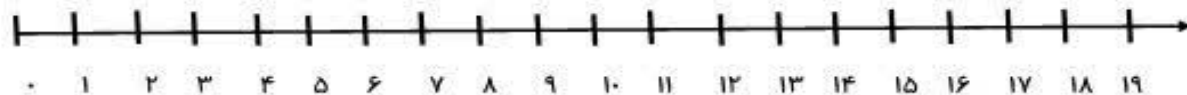




۵ پرنده روی شاخه ی درخت نشستند.

۲ پرنده ی دیگر در کنار آن ها نشستند.

چند پرنده روی درخت است؟



۴ پسر فوتبال بازی می کردند.



۳ پسر بچه ی دیگر هم برای بازی

آمدند.

چند پسر بازی می کنند؟

