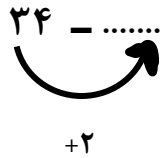


قبل و بعد هر عدد را بنویس.

□	۳۴	□	□	۷۰	□	□	۲۸	□
□	۴۱	□	□	۸۶	□	□	۹۳	□

از عدد ۷۰ تا ۴۰ را به صورت معکوس بشمار و بنویس.

جاهای خالی را با اعداد مناسب پر کن.



ابتدا اعداد روی محور را بنویس ؛ سپس مانند نمونه ۳ تا ۳ تا بشمار و ادامه بده.



در جدول اعداد زیر از عدد ۴ ، ۴ تا ۴ تا بشمار و رنگ کن.

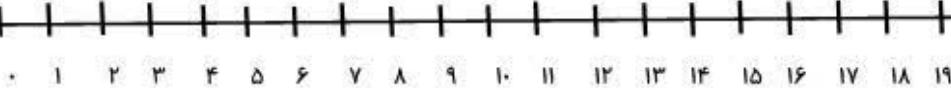
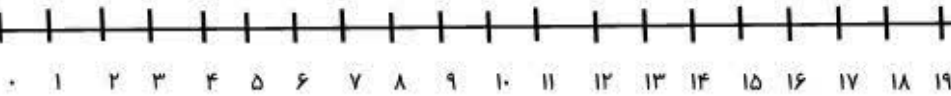
۱	۲	۳	۴	۵	۶	۷	۸	۹	۱۰
۱۱	۱۲	۱۳	۱۴	۱۵	۱۶	۱۷	۱۸	۱۹	۲۰
۲۱	۲۲	۲۳	۲۴	۲۵	۲۶	۲۷	۲۸	۲۹	۳۰
۳۱	۳۲	۳۳	۳۴	۳۵	۳۶	۳۷	۳۸	۳۹	۴۰

حاصل جمع و تفریق های زیر را روی محورها بدست آور.

$$4 + 3 + 8 = \dots$$

$$19 - 14 = \dots$$

برای محورهای زیر جمع یا تفریق بنویس.



حاصل جمع و تفریق های دو رقمی زیر را بدست آور.

$$50 + 30 = \dots$$

$$10 + 80 = \dots$$

$$40 + 20 = \dots$$

$$60 - 50 = \dots$$

$$90 - 20 = \dots$$

$$40 - 10 = \dots$$

حاصل جمع و تفریق های زیر را به روش ذهنی بدست آور.

$$11 + 5 = \dots$$

$$18 + 7 = \dots$$

$$16 + 4 = \dots$$

$$15 - 3 = \dots$$

$$19 - 5 = \dots$$

$$17 - 6 = \dots$$