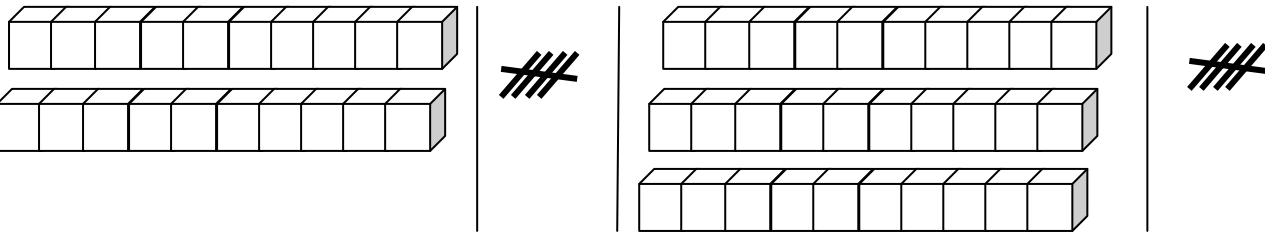


۱ - با کمک شکل، عبارت های جمع را نوشته و حاصل آن را به دست بیاور.



..... + ..... + ..... = .....



..... + ..... + ..... + ..... = .....

۲ - با کشیدن چوب خط، جمع ها را انجام بده.

۶ + ۹ = .....

۱۰ + ۱۳ + ۶ = .....

۹ + ۱ + ۱۴ = .....

۳ - با رسم چوب خط مسئله را جواب بده.



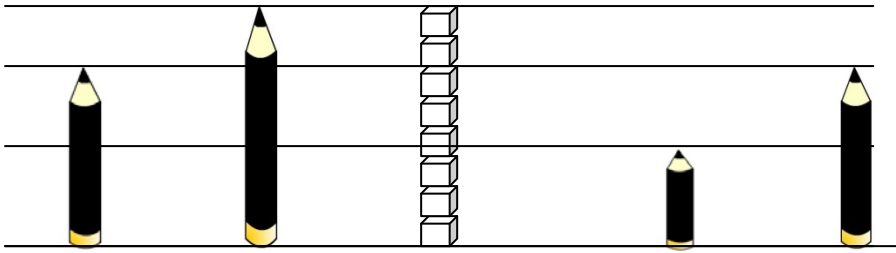
۱ پرنده در آسمان پرواز می کردند.

۲ پرنده ی دیگر به آن ها اضافه شد.

بعد از مدتی ۴ پرنده ی دیگر هم آمدند.

..... پرنده در آسمان هستند.

چند پرنده در آسمان هستند؟



۱

۲

۳

۴

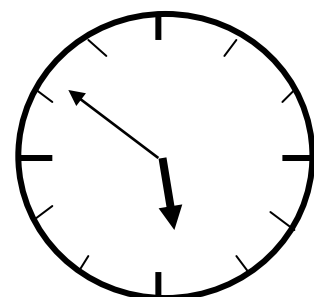
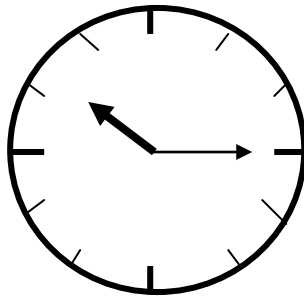
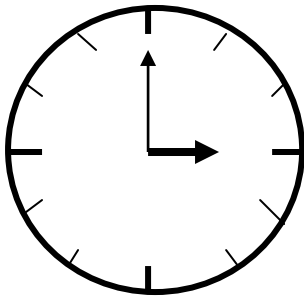
اندازه ی مداد شماره ی ۱ برابر با ..... است . اندازه ی مداد شماره ی ۲ برابر با ..... است .

اندازه ی مداد شماره ی ۳ بین ..... تا ..... است . اندازه ی مداد شماره ی ۴ برابر با ..... است .

مداد شماره ی ۱ کو تاه تر از مداد شماره ی ..... است . مداد شماره ی ..... کو تاه ترین مداد است .

مداد شماره ی ..... با مداد شماره ی ..... هم اندازه است . مداد شماره ی ..... بلند ترین مداد است .

۵- زمانی که هر ساعت نشان می دهد را بنویس.



ساعت ..... است.

زمان، بین ساعت ..... و ..... است .

زمان، بین ساعت ..... و ..... است.

| شماره سوال | انتظارات                                       | خیلی خوب | خوب | قابل قبول | نیاز به تمرین |
|------------|--|----------|-----|-----------|---------------|
| ۱          | انجام جمع مضارب ۵ و ۱۰ با کمک شکل              |          |     |           |               |
| ۲          | انجام جمع با کمک چوب خط                        |          |     |           |               |
| ۳          | نشان دادن جواب مسئله با کمک چوب خط             |          |     |           |               |
| ۴          | تشخیص اندازه ی مدادها با مقیاس چینه            |          |     |           |               |
| ۴          | مقایسه ی اندازه ی مدادها نسبت به یکدیگر        |          |     |           |               |
| ۵          | تشخیص محل قرار گرفتن عقربه ی ساعت شمار در ساعت |          |     |           |               |