

عیدانه

۱۴۰۵

کاربرگ ویژه نوروز (فارسی)

به نام خداوند بخشنده و مهربان

بازخورد آموزگار:

نام:

نام خانوادگی:

تاریخ: / /

واللاصباء
مقلب لوب
محو الحول والاحوال
یاد بزرگواران
احسن حال

سال نو مبارک



دلبندم نقاشی زیبایی از سفره هفت سین بکش و بگو در سفره هفت سین چه چیزهایی گذاشتی
و هر کدام نماد چیست؟

.....
.....
.....



عزیزم خاطره ی سفر نوروزت را برایم بنویس، به چه شهری رفته ای؟ جاهای دیدنی، غذای محلی و سوغاتی آن شهر چه بود؟ اگر نرفته ای یک سفر خیالی به هر کجا که دوست داری داشته باش و تمام موارد بالا را بنویس.



.....

.....

.....

.....

.....

.....

.....

.....


.....

.....

.....

.....

در این تعطیلات سعی کن یک هنر را یاد بگیری هر چند اندک و برایم بنویس چه هنری را انتخاب کردی و چه کاری هایی انجام دادی؟ چه کسی به شما کمک کرد؟ در کادر زیر با یک جمله ی زیبا از او تشکر کن.



.....

.....

.....

.....

.....

.....

.....

.....

گروه فوق تخصصی دوم پایه دوم

به نام خدا

بازخورد آموزگار:

سرگرمی ☺




نام خانوادگی:

نام:

تاریخ: / / ۹۸

خوب حالا تصویر رو به رو را نگاه کن و پنج جمله در موردش بنویس.




A large rectangular box with five horizontal dotted lines for writing.



یک عدد سه رقمی بنویس که کوچکتر از ۳۰۰ باشد و یک عدد دیگر که کوچکتر از ۵۰۰ باشد حالا دو عدد را یکبار با هم جمع و یک بار از هم کم کن.



فرشته را به قلب برسان.



زیبای من
اختلاف بین
دو تصویر
را پیدا کن.



با کلمات زیر جمله بساز.



حوصله:

اتفاقاً:


صحبت:

تصمیم:

احساس:



شکل هایی را
که در کادر
پایین می بینی
در تصویر
پیدا کن .



کاربرگ ویژه نوروز (ریاضی)

به نام خداوند بخشنده و مهربان

باز خورد آموزگار:

نام:

نام خانوادگی:


تاریخ: / /

مهتاب است و
 میوه‌ها و آجیل
 یاد بزرگواران
 حلال است

سال نو مبارک



فرشته‌ی زیبایی من، به کمک متر اندازه‌ی قد و اندازه‌ی آستین لباسی را که برای خودت خریدی در جای خالی بنویس.



لباس شما	😊
.....	قد لباس
.....	قد آستین

فکر می‌کنی چند عدد تیر چراغ برق در راه دیدی؟ آن را به صورت گسترده بنویس.

..... + + ...

آن عدد بین عدد و قرار دارد.

.....

حالا آن عدد را با حذف یکان و دهگان تقریب بزن.



در راه چه شکل‌های هندسی جالبی دیدی؟ چند گوشه و چند ضلع داشت؟

.....


.....

.....

.....

.....

.....



ابتدا حاصل جمع و تفریق های زیر را به روش تکنیکی بدست آورید سپس خانه های جواب را در جدول رنگ بزن.

$$\begin{array}{r} 7 \\ +18 \\ \hline \end{array} \quad \begin{array}{r} 710 \\ -205 \\ \hline \end{array} \quad \begin{array}{r} 45 \\ -23 \\ \hline \end{array} \quad \begin{array}{r} 140 \\ -14 \\ \hline \end{array} \quad \begin{array}{r} 91 \\ -19 \\ \hline \end{array} \quad \begin{array}{r} 68 \\ -59 \\ \hline \end{array} \quad \begin{array}{r} 33 \\ -7 \\ \hline \end{array} \quad \begin{array}{r} 90 \\ -54 \\ \hline \end{array}$$

$$\begin{array}{r} 11 \\ -4 \\ \hline \end{array} \quad \begin{array}{r} 77 \\ -54 \\ \hline \end{array} \quad \begin{array}{r} 34 \\ +28 \\ \hline \end{array} \quad \begin{array}{r} 256 \\ -17 \\ \hline \end{array} \quad \begin{array}{r} 40 \\ -31 \\ \hline \end{array} \quad \begin{array}{r} 86 \\ -78 \\ \hline \end{array} \quad \begin{array}{r} 133 \\ -14 \\ \hline \end{array} \quad \begin{array}{r} 40 \\ +9 \\ \hline \end{array}$$

$$\begin{array}{r} 67 \\ +51 \\ \hline \end{array} \quad \begin{array}{r} 75 \\ -36 \\ \hline \end{array} \quad \begin{array}{r} 57 \\ -24 \\ \hline \end{array} \quad \begin{array}{r} 170 \\ -15 \\ \hline \end{array} \quad \begin{array}{r} 686 \\ +186 \\ \hline \end{array} \quad \begin{array}{r} 68 \\ +19 \\ \hline \end{array} \quad \begin{array}{r} 66 \\ -25 \\ \hline \end{array} \quad \begin{array}{r} 698 \\ +143 \\ \hline \end{array}$$

$$\begin{array}{r} 135 \\ +79 \\ \hline \end{array} \quad \begin{array}{r} 126 \\ +375 \\ \hline \end{array} \quad \begin{array}{r} 43 \\ -29 \\ \hline \end{array} \quad \begin{array}{r} 125 \\ +198 \\ \hline \end{array} \quad \begin{array}{r} 84 \\ -15 \\ \hline \end{array} \quad \begin{array}{r} 304 \\ +9 \\ \hline \end{array} \quad \begin{array}{r} 48 \\ -19 \\ \hline \end{array} \quad \begin{array}{r} 740 \\ -219 \\ \hline \end{array}$$

$$\begin{array}{r} 695 \\ -357 \\ \hline \end{array} \quad \begin{array}{r} 33 \\ +12 \\ \hline \end{array} \quad \begin{array}{r} 665 \\ -70 \\ \hline \end{array} \quad \begin{array}{r} 504 \\ +57 \\ \hline \end{array} \quad \begin{array}{r} 84 \\ -29 \\ \hline \end{array} \quad \begin{array}{r} 135 \\ +727 \\ \hline \end{array} \quad \begin{array}{r} 186 \\ -125 \\ \hline \end{array}$$

	9	8		14	31	521		123	44	155	229	841	444	280	95	35	4	100
	62	39		29	200	500		88	570	36	120	26	50	55	60	862	12	61
	861	338		69	210	561		214	2	295	700	9	38	33	900	118	300	25
	18	595		45	201	119		323	66	72	99	126	501	41	22	872	87	505
	999	71		15	13	19		239	23	7	18	450	290	330	596	889	662	25




سلام عزیزم چند تا از کلماتی را که قبلاً در املا اشکال داشتی در کادر زیر بنویس.



A large rounded rectangular box with four horizontal dotted lines for writing practice.

حالا هر چند تا می توانی اختلاف دو تصویر را پیدا کن.



مریم تصمیم گرفته بود در تعطیلات عید کتاب داستانی را که پدرش به او هدیه داده بود و ۳۰۰ صفحه ای بود بخواند او هفته ی اول ۱۲۳ صفحه و هفته ی دوم ۸۴ صفحه از کتاب را خوانده بود. چند صفحه از کتابش را هنوز نخوانده است؟





بازخورد آموزگار:

تاریخ: ۹۸ / /

نام خانوادگی:

نام:



سلام دلبندم هنوز چند روز به عید مانده؛ شما در خانه تکانی چه کمکی به بزرگ ترها کردی؟

.....
.....
.....



خوب خسته نباشی حالا بیا جمع و تفریق زیر را با روش تکنیکی حل کنیم.

$$\begin{array}{r} ۷۵۷ \\ - ۴۳۶ \\ \hline \end{array}$$

$$\begin{array}{r} ۲۵۶ \\ + ۴۸۴ \\ \hline \end{array}$$




😊 آفرین عزیزم حالا برایم ده کلمه ای که از درس ایران زیبا یادت مانده بنویس. با یکی دو تا از کلماتی که از همه زیباتر است یک جمله ی قشنگ بنویس.

.....
.....



خسته نباشی اگر دوست داری می توانی نقاشی زیر را رنگآمیزی کنی.



دوست دارم با این دوربین

.....
.....
.....
.....
.....





سلام اسم این نقاشی ماندلا
است. ماندالا نقاشی هایی با
جزئیات و ریزه کاری های
زیاد برای رنگ آمیزی
هستند.

می توانی طی چند روز با
حوصله این طرح را رنگ
کنی.

شما حتی می توانید ماندلا ی
مختص خودتان را بسازید ،
به این صورت که یک دایره
بزرگ یا مستطیل روی
صفحه بکشید و آن را با
انواع اشکال هندسی خطوط
نقاط و دوائر پر کنید ، فکر
و ذهن خود را آزاد بگذارید
میتوانید صفحه را پر از گل
کنید یا هر نماد و شکل و
تصویری که حتی معنی
نداشته باشد ، بعد شروع
کنید به رنگ آمیزی و همه
رنگ هایی که را که دوست
دارید برای رنگ آمیزی
استفاده کنید و لذت ببرید.

طرح ماندلای
خودت را بکش.
حتما می توانی



کاربرگ ویژه نوروز (علوم)

به نام خداوند بخشنده و مهربان

بازخورد آموزگار:

نام:

نام خانوادگی:

تاریخ: / /

مقلب است و
یامول و لاول
یاد بر لیس و لانه
حول حانارا

سال نو مبارک



مهربانم در راه مسافرت چه چیزهایی خوردی؟ آن‌ها را دسته بندی کن.




.....
.....
.....
.....



در راه چه حیواناتی دیدی؟ کدامیک برای خود لانه می سازند؟


.....
.....
.....
.....
.....
.....



دفتر یادداشتت را بردار در راه هر چیزی که به نظرت جالب است یادداشت کن می توانی هم تصویر آن را بکشی و یا چند خط درباره اش بنویسی.



عزیزم در این چند روز زباله ها را جدا سازی کن زباله های خشک و زباله های تر.
حالا در یک لیست هر کدام را بنویس.



زباله های خشک

زباله های تر

.....
.....
.....
.....
.....
.....
.....
.....
.....
.....



شما به کدام شهر سفر کرده اید؟

دمای هوا در این شهر چند درجه است؟

..... روزها و شب ها

فکر می کنی دوستت به کجا سفر کرده است؟

آن شهر از شهری که شما در آن هستید گرم تر است یا سردتر؟

یک نقاشی زیبا از یکی از جاهای دیدنی که رفته ای بکش.

کاربرگ ویژه نوروز (درک مطلب)

به نام خداوند بخشنده و مهربان

بازخورد آموزگار:

نام:

نام خانوادگی:

تاریخ: / /

مقاله استوب
والا اصبار
میحوال و لا حول
یاد بریسر و لائما
احسن الابرار
حول حاله

سال نو مبارک



فرشته ی زیبایی من، حکایت زیر را چند بار با دقت بخوان و به سوالات آن جواب بده.



راه حل بهلول برای پرداخت پول بخار

یک روز عربی از بازار عبور می کرد که چشمش به دکان خوراک پزی افتاد. از بخاری که از سر دیگ بلند می شد خوشش آمد. تکه نانی که داشت بر سر آن می گرفت و می خورد.



هنگام رفتن صاحب دکان گفت: تو از بخار دیگ من استفاده کردی و باید پولش را بدهی!

مردم جمع شدند و مرد بیچاره که از همه جا عاجز بود بهلول را دید که از آنجا می گذشت.

از بهلول درخواست قضاوت کرد. بهلول به آشپز گفت: آیا این مرد از غذای تو خورده است؟

آشپز گفت: نه ولی از بوی آن استفاده کرده است.

بهلول چند سگه نقره از جیبش در آورد و به آشپز نشان داد و به زمین ریخت و گفت: ای آشپز صدای پول را تحویل بگیر!

آشپز با کمال تعجب گفت: این چه طرز پول دادن است؟

بهلول گفت: مطابق عدالت است کسی که بوی غذا را بفروشد در عوض باید صدای پول دریافت کند.

حالا به سوالات زیر پاسخ کوتاه بده.

- ✓ مردی که آشپز از او پول می خواست اهل کجا بود؟
- ✓ آیا آن مرد از غذای آشپز خورده بود؟
- ✓ مرد از چه کسی خواست تا بین آن ها قضاوت کند؟
- ✓ بهلول به آشپز چه داد؟



