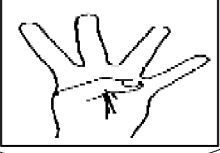
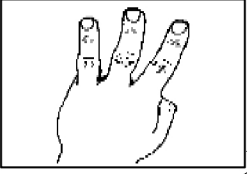





۱. دختر عزیزم! مانند نمونه به کمک انگشتان دستت بشمار و عدد بعدی را بنویس.

۳۶ -  - ۴۰ - ۴۴ - ۴۸ - - - -

+ ۴ + ۴ + ۴ + ۴

۴۱ -  - ۴۴ - ۴۷ - - - -

+ ۳ + ۳

۵۸ -  - ۶۳ - - - -

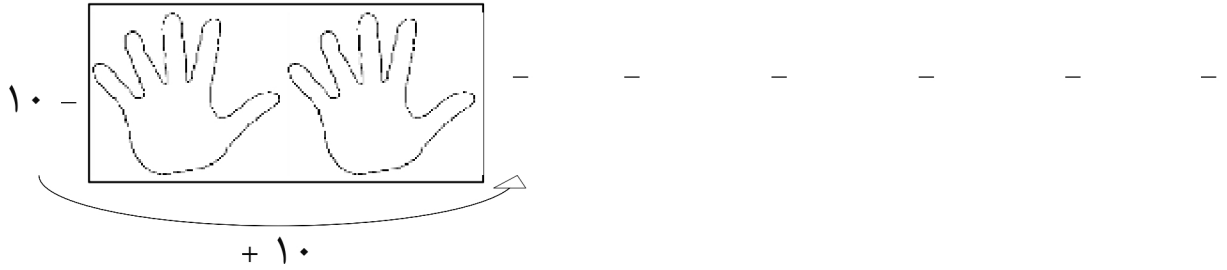
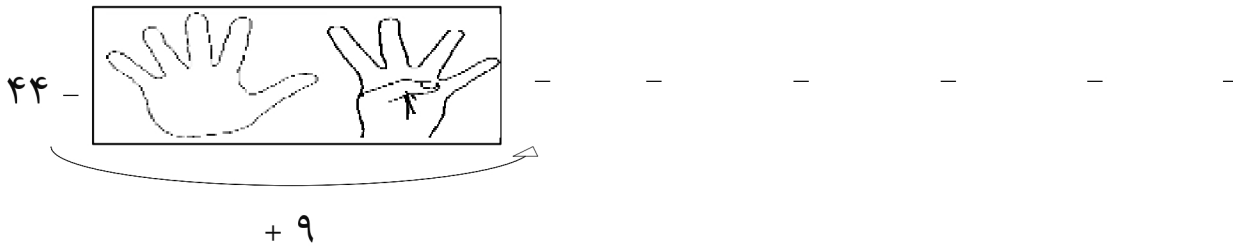
+ ۵ + ۵

۴۹ -  - - - -

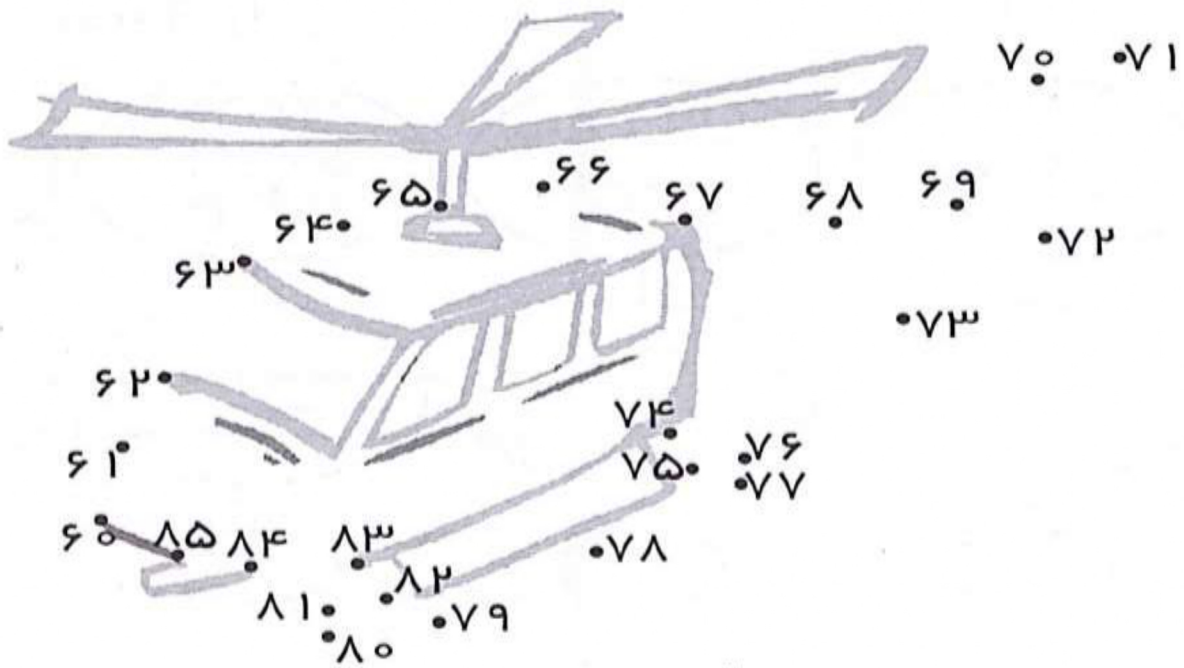
+ ۷

۵۵ -  - - - -

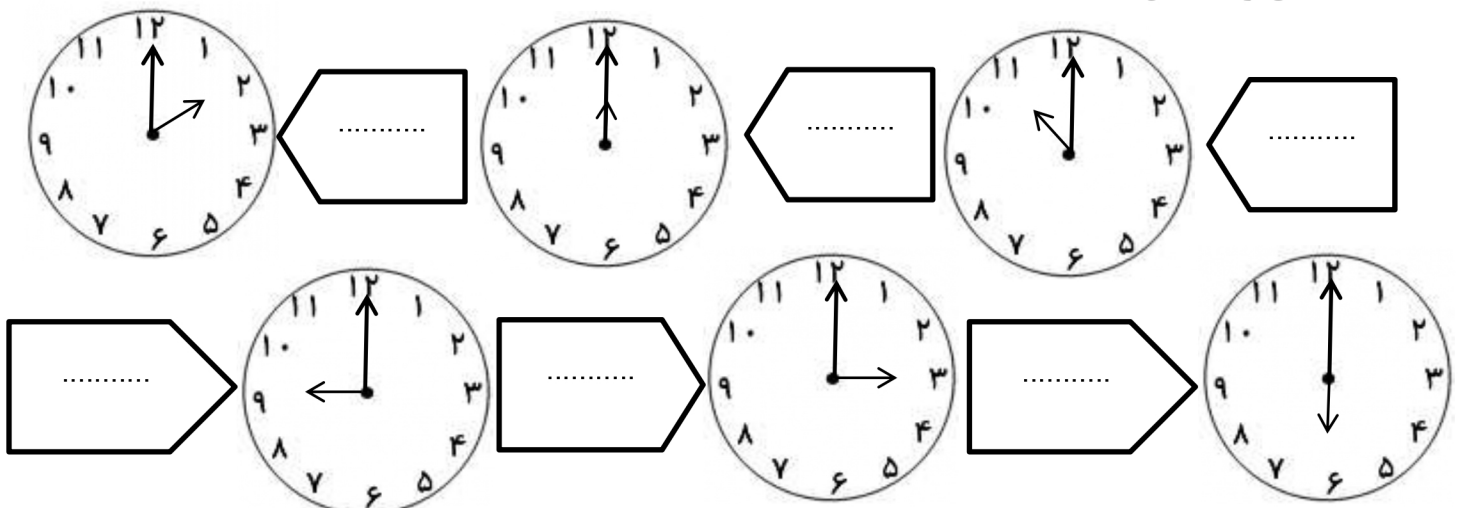
+ ۶



۲. با به هم وصل کردن نقاط از ۶۰ تا ۸۵ بال گرد زیر را کامل کن و رنگ بزن .



۳. ساعت دقیق را بنویس.



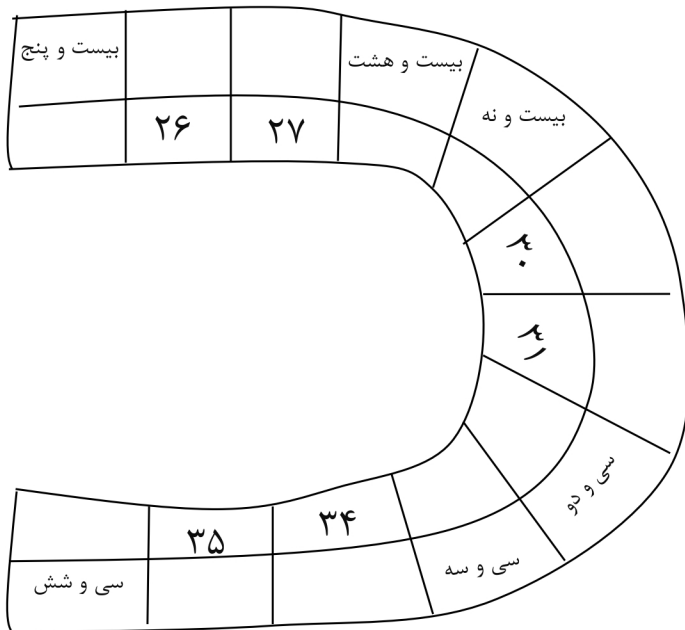
۳. مانند نمونه، اعداد زیر را به حروف بنویس و داخل جدول ببر.



<table border="1"> <tr> <td>ده تایی</td> <td>یکی</td> </tr> <tr> <td>۷</td> <td>۸</td> </tr> </table> <p>هفتاد و هشت</p> <p>۷۸</p>	ده تایی	یکی	۷	۸	<table border="1"> <tr> <td>ده تایی</td> <td>یکی</td> </tr> <tr> <td></td> <td></td> </tr> </table> <p>۴۴</p>	ده تایی	یکی			<table border="1"> <tr> <td>ده تایی</td> <td>یکی</td> </tr> <tr> <td></td> <td></td> </tr> </table> <p>۹۷</p>	ده تایی	یکی		
ده تایی	یکی													
۷	۸													
ده تایی	یکی													
ده تایی	یکی													

<table border="1"> <tr> <td>ده تایی</td> <td>یکی</td> </tr> <tr> <td></td> <td></td> </tr> </table> <p>۵۳</p>	ده تایی	یکی			<table border="1"> <tr> <td>ده تایی</td> <td>یکی</td> </tr> <tr> <td></td> <td></td> </tr> </table> <p>۲۶</p>	ده تایی	یکی			<table border="1"> <tr> <td>ده تایی</td> <td>یکی</td> </tr> <tr> <td></td> <td></td> </tr> </table> <p>۱۶</p>	ده تایی	یکی		
ده تایی	یکی													
ده تایی	یکی													
ده تایی	یکی													

۴. جاهای خالی را به عدد یا حروف مناسب پر کن.



			۱۰
	۱۸	۱۴	
بیست		شانزده	دوازده



ارزشیابی معلّم:

در حدّ انتظار نزدیک به حدّ انتظار
 نیازمند تلاش

نظر ولی:

مدت زمان انجام کار:
 تاریخ: