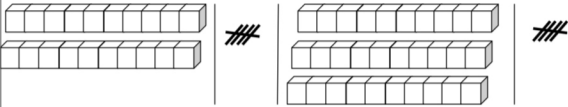


۱ - با کمک شکل، عبارت های جمع را نوشته و حاصل آن را به دست بیاور.



$$\dots\dots\dots + \dots\dots\dots + \dots\dots\dots = \dots\dots\dots$$



$$\dots\dots\dots + \dots\dots\dots + \dots\dots\dots + \dots\dots\dots = \dots\dots\dots$$

۲ - با کشیدن چوب خط، جمع ها را انجام بده.

$$6 + 9 = \dots\dots\dots$$

$$10 + 13 + 6 = \dots\dots\dots$$

$$9 + 1 + 14 = \dots\dots\dots$$

۳ - با رسم چوب خط مسئله را جواب بده.



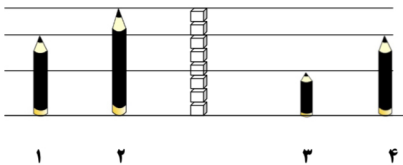
۸ پرنده در آسمان پرواز می کردند.

۲ پرنده ی دیگر به آن ها اضافه شد.

بعد از مدتی ۴ پرنده ی دیگر هم آمدند.

چند پرنده در آسمان هستند؟

..... پرنده در آسمان هستند.




اندازه ی مداد شماره ی ۱ برابر با ..... است . اندازه ی مداد شماره ی ۲ برابر با ..... است .

اندازه ی مداد شماره ی ۳ بین ..... تا ..... است . اندازه ی مداد شماره ی ۴ برابر با ..... است .

مداد شماره ی ۱ کو تاه تر از مداد شماره ی ..... است . مداد شماره ی ..... کو تاه ترین مداد است .

مداد شماره ی ..... با مداد شماره ی ..... هم اندازه است . مداد شماره ی ..... بلند ترین مداد است .


۵- زمانی که هر ساعت نشان می دهد را بنویس.



ساعت ..... است.



زمان، بین ساعت ..... و ..... است .



زمان، بین ساعت ..... و ..... است.

شماره سوال	انتظارات	خیلی خوب	خوب	قابل قبول	نیاز به تمرین
۱	انجام جمع مضارب ۵ و ۱۰ با کمک شکل				
۲	انجام جمع با کمک چوب خط				
۳	نشان دادن جواب مسئله با کمک چوب خط				
۴	تشخیص اندازه ی مدادها با مقیاس چینه				
۴	مقایسه ی اندازه ی مدادها نسبت به یکدیگر				
۵	تشخیص محل قرار گرفتن عقربه ی ساعت شمار در ساعت				