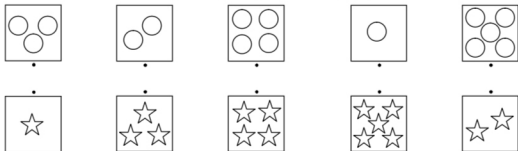





۱- الگوی شکل ها را ادامه بده.



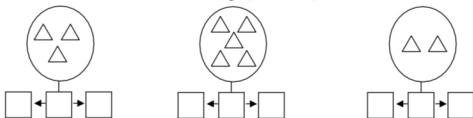
۲- دسته هایی که تعداد شکل هایشان با هم برابر است با خط کش به هم وصل کن.



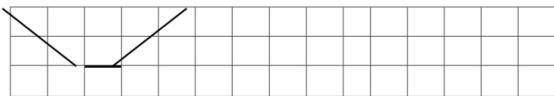
۳- عدد هر شکل را بنویس.



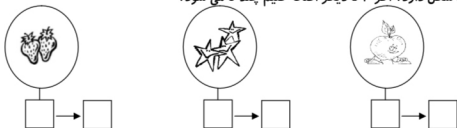
۴- یکی قبل و یکی بعد از شکل های هر دسته را بگو و در زیر بنویس.



۵- الگو را با خط کش ادامه بده.



۶- هر دسته چند شکل دارد؟ اگر ۲ تا دیگر اضافه کنیم چند تا می شود؟



۷- هر شکل از چند گوشه درست شده است بنویس.



۸- از هر شکل چند تا در تصویر دیده می شود مانند نمونه انجام بده.

						۴



۹- با کشیدن چوب خط حساب کن شکل های سمت راست با چپ چند تا می شود.



+



+



۱۰- عدد هر دسته را بنویس اگر از هر دسته دوتا برداریم چند تا می ماند بنویس.



۱۱- دور عدد درست خط بکش.



۵ ۷ ۸



۴ ۶ ۸



۵ ۷ ۹



۱ ۳ ۵

۱۲- مربع شگفت انگیز را با عدد کامل کن.

۴	۱	۵	۲	۶	۷	۹	۸	
	۹	۶	۵	۸	۳	۷	۴	۱
۷	۳			۹	۴		۵	۶
۱	۲			۴	۶	۵	۳	۷
۵		۳	۷	۲	۹	۱	۶	۴
۶	۷	۴	۳	۱			۹	۲
۸	۵		۴	۳			۲	۹
۳	۶	۱		۵	۲	۴	۷	۸
۹	۴	۲	۶	۷	۸	۳		۵